

사 회

문 1. 국제 사회의 변천 과정에 대한 설명으로 옳지 않은 것은?

- ① 30년 전쟁을 종결하기 위해 체결된 베스트팔렌 조약으로 민족 단위의 주권 국가가 국제 사회의 주체로 떠올랐다.
- ② 제1차 세계 대전 이후 국제 평화와 안전 및 협력 증진을 위해 국제 연맹이 창설되었으나 실질적인 효과를 거두지 못하였다.
- ③ 트루먼 독트린은 제국주의와 식민주의의 확산 방지를 위해 미국이 동맹국에 군사·경제 원조를 약속한 것으로, 냉전체제 성립의 계기가 되었다.
- ④ 지중해의 몰타에서 미·소 정상이 만나 동서 대결의 종식을 선언한 후 탈냉전 시기가 도래하였다.

문 2. 밑줄 친 ㉠, ㉡에 대한 설명으로 옳은 것은?

자유는 소극적 자유와 적극적 자유로 나뉜다. 소극적 자유는 국가 권력으로부터 구속이나 강제를 받지 않는 ‘국가로부터의 자유’를 의미한다. 이와 달리 적극적 자유는 국가 운영에 참여할 수 있는 ㉠‘국가에의 자유’와 인간다운 삶을 누릴 자유인 ㉡‘국가에 의한 자유’로 구분된다.

- ① ㉠에는 환경권과 보건권이 포함된다.
- ② 우리 헌법에 규정된 국민의 공무 부담권은 ㉠을 보장하기 위한 것이다.
- ③ ㉡은 역사가 가장 오래된 핵심적 권리이다.
- ④ 자본주의가 발달한 현대 사회에서는 ㉡의 필요성이 점차 줄어들고 있다.

문 3. 국제 사회를 바라보는 관점 (가)와 (나)에 대한 설명으로 옳지 않은 것은?

(가)	(나)
○ 국제 사회는 이성과 보편적인 선(善)이 작동하는 사회로 국가 간 협력과 평화 건설이 가능하다.	○ 국제 사회는 힘의 논리가 지배하는 사회로 무정부성이 존재한다.
○ 국제법과 국제기구를 통한 협력이 국제 평화 방안이다.	○ 국제법과 국제기구만으로는 국제 평화 건설이 어렵다.

- ① (가)는 국제 사회에서 상호 의존성을 중시한다.
- ② (나)는 국제 사회를 홉스의 인간관에서 이해한다.
- ③ (가)는 (나)와 달리 국가 안보를 가장 중시한다.
- ④ (나)는 (가)와 달리 국제 평화 방안으로 동맹과 세력 균형을 강조한다.

문 4. 다음 문서에 대한 설명으로 옳은 것은?

- 국왕은 의회의 동의를 받지 않고 왕권으로 법의 효력을 정지하거나 법의 집행을 정지할 수 있는 권력이 있다는 주장은 위법이다.
- 국왕에게 청원을 하는 것은 국민의 권리이므로 청원을 했다고 해서 구금하거나 박해를 가하는 것은 위법이다.
- 의원 선거는 자유롭게 이루어져야 한다.

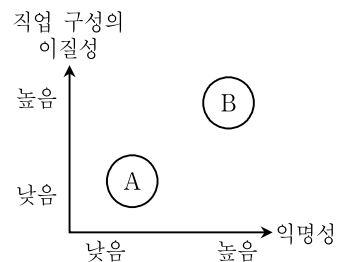
- ① 프랑스 인권선언의 영향을 받았다.
- ② 봉건제의 모순을 극복하고 신분제 타파의 계기가 되었다.
- ③ 전제 군주제에서 입헌 군주제로 변화하는 기틀을 마련하였다.
- ④ 보통 선거와 평등 선거의 원칙을 제시하였다.

문 5. 양당제와 다당제의 일반적인 특징에 대한 비교 설명으로 옳은 것만을 모두 고른 것은?

- ㄱ. 양당제는 다당제보다 소수집단의 의사가 더 잘 반영된다.
- ㄴ. 양당제는 다당제보다 강력한 정책 추진이 가능하다.
- ㄷ. 다당제는 양당제보다 다수당의 횡포 가능성이 높다.
- ㄹ. 다당제는 양당제보다 정치적 책임소재가 불분명해질 수 있다.

- ① ㄱ, ㄷ
- ② ㄱ, ㄹ
- ③ ㄴ, ㄷ
- ④ ㄴ, ㄹ

문 6. 다음 그림은 도시와 농촌의 일반적 특성을 도식화한 것이다. 이에 대한 설명으로 옳은 것은?



- ① A에 비해 B에서는 고령화에 따른 노동력 부족 현상이 더 심각하다.
- ② A에 비해 B에서는 주로 비공식적 수단에 의해 사회 통제가 이루어진다.
- ③ B에 비해 A에서는 가정과 직장의 분리 정도가 낮다.
- ④ B에 비해 A에서는 2차적 인간관계가 지배적으로 나타난다.

문 7. (가), (나)에 나타난 일탈 이론에 대한 설명으로 옳은 것은?

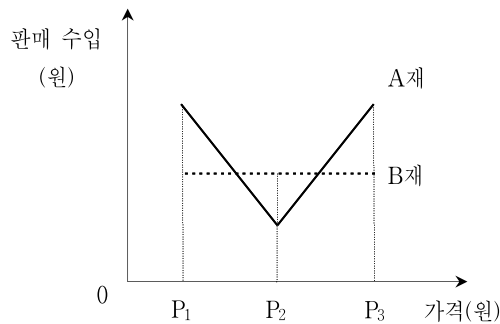
- (가) 비행 청소년들을 상담한 결과, 주변에 이들의 비행과 일탈을 부추기는 사람들이 존재하였다는 점이 발견되었다. 이런 사람들과의 잦은 접촉으로 인해 비행 청소년들은 자신의 일탈 행위를 쉽게 정당화하며 일탈 행위에 대한 죄의식도 낮아지게 되었다.
- (나) 인터넷 공간은 매우 빠른 속도로 진화하고 있기 때문에 이를 규율하는 사회적 규범이 제대로 마련되지 않아 각종 사이버범죄가 발생하고 있다. 인터넷 공간에는 현실 세계의 규범이 적용되기 어려우며 새로운 규범이 미처 확립되지 않아 이른바 규범의 진공 상태가 발생하게 된다.

- ① (가)는 목표와 수단 간의 괴리를 일탈 행위의 원인으로 파악한다.
- ② (가)는 인간의 상호 작용을 통한 문화와 행동의 학습을 강조한다.
- ③ (나)는 특정 행위를 일탈 행위로 규정하는 사회적 반응에 주목한다.
- ④ (나)는 일탈 행위의 원인으로 정보 사회의 불평등 구조를 강조한다.

문 16. 채권과 주식에 대한 설명으로 옳지 않은 것은? (단, 희석증권은 제외한다)

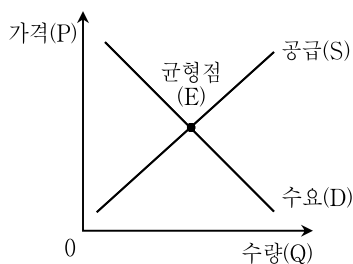
- ① 주식보유자는 이익배당청구권을 갖지만, 채권보유자는 이익 배당청구권을 갖지 못한다.
- ② 채권보유자와 주식보유자는 원칙적으로 경영참가권을 가진다.
- ③ 정부와 지방자치단체는 주식을 발행할 수 없다.
- ④ 채권보유자는 이자소득을 받지만, 주식보유자는 이자소득을 받을 수 없다.

문 17. 다음 그림은 가격 변화에 따른 A재와 B재의 판매 수입을 나타낸 것이다. 이에 대한 설명으로 옳은 것은? (단, A재와 B재는 수요의 법칙을 따른다)



- ① B재 수요의 가격 탄력성은 0이다.
- ② 가격이 P_2 일 때의 판매량은 A재가 B재보다 많다.
- ③ 가격이 P_2 에서 P_3 로 상승할 때 A재의 판매량은 증가한다.
- ④ 가격이 P_2 에서 P_1 으로 하락할 때 가격 변화에 대해 A재의 수요는 탄력적이다.

문 18. 다음 그림은 정상재인 X재의 시장 균형 상태를 나타낸 것이다. X재 수요와 공급의 변화로 균형 가격은 변하지 않고 균형 거래량만 증가했다면, 이러한 결과를 초래할 수 있는 변화 요인으로 적절한 것은?



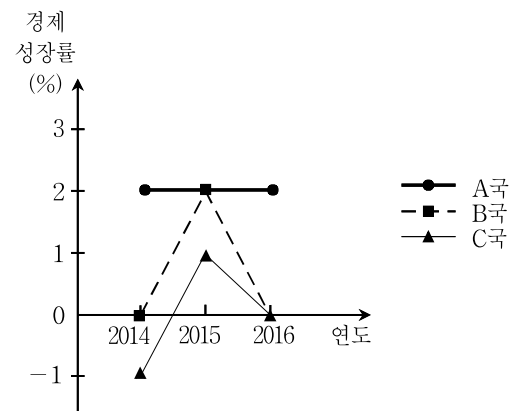
- ① 대체재의 가격 상승과 생산 요소 가격의 상승
- ② 보완재의 가격 하락과 생산 기술의 발전
- ③ 소득의 감소와 공급자 수의 증가
- ④ X재에 대한 선호 감소와 노동자의 임금 상승

문 19. 다음 표에서 기준연도인 T년 대비 (T + 1)년의 GDP 디플레이터 변화에 대한 설명으로 옳은 것은? (단, A국은 X와 Y 두 상품만 생산한다)

상품	T년		(T + 1)년	
	생산량(개)	시장가격(원)	생산량(개)	시장가격(원)
X	50	200	60	250
Y	70	100	80	90

- ① 11.0 % 상승
- ② 11.0 % 하락
- ③ 9.9 % 상승
- ④ 9.9 % 하락

문 20. 다음 그림은 A, B, C 3국의 경제 성장률을 나타낸 것이다. 이에 대한 설명으로 옳은 것만을 <보기>에서 모두 고른 것은? (단, 경제 성장률은 전년 대비 실질 GDP의 증가율을 의미한다)



<보 기>

- ㄱ. A국의 실질 GDP는 2015년과 2016년이 같다.
- ㄴ. B국의 실질 GDP는 2013년이 2016년보다 많다.
- ㄷ. B국의 실질 GDP는 2015년과 2016년이 같다.
- ㄹ. C국의 실질 GDP는 2013년이 2015년보다 많다.

- ① ㄱ, ㄴ
- ② ㄱ, ㄷ
- ③ ㄴ, ㄹ
- ④ ㄷ, ㄹ