

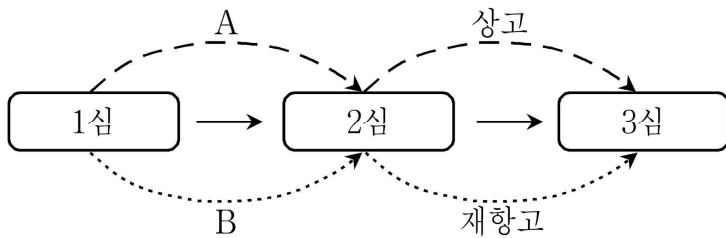
2017년 하반기 지방직 추가채용 사회 문제와 해설(◎책형) (2017.12.16)

[법과정치] 1~10번(10문제)

[경제] 11~15번(5문제)

[사회문화] 16~20번(5문제)

1. 심급제도를 나타낸 다음 그림에 대한 설명으로 옳은 것만을 <보기>에서 고른 것은?



<보 기>

- ㄱ. 행정소송은 행정심판을 거쳐서 2심부터 시작한다.
- ㄴ. 1심이 지방법원 합의부인 경우 2심은 고등법원이다.
- ㄷ. 3심에 해당하는 것은 대법원과 헌법재판소이다.
- ㄹ. A는 법원의 판결에 대하여, B는 명령과 결정에 대하여 이의가 있을 때 제기하는 절차이다.

① ㄱ, ㄴ ② ㄱ, ㄷ ③ ㄴ, ㄹ ④ ㄷ, ㄹ

[정답] ③

[출제단원] 법과정치 - III. 헌법의 기본 원리

[출제영역] 재판의 심급 제도와 상소 제도

출제 가능 지수					
난이도 지수					

ㄱ. (X) 우리나라는 공정한 재판을 확보하기 위하여 급이 다른 법원에서 여러 번 재판을 받을 수 있도록 하는 제도인 '심급 제도'를 인정하고 있습니다. 특히 법원 조직법에서는 3심제를 원칙으로 규정하고 있는데, 행정소송 역시 3심제가 적용됩니다. 따라서 행정심판을 거친 것과 무관하게 행정소송은 1심부터 시작합니다. 참고로 행정심판은 행정 심판 위원회라는 행정부 자체 기관에서 담당합니다. 따라서 법원에서 재판 하는 행정 소송과는 다른 절차입니다.

ㄴ. (O) 1심은 법원조직법에서 정한 일정한 기준(=사건의 경중)에 따라 가벼운 사건은 지방법원의 단독판사가 담당하고, 중한 사건은 지방법원의 합의부에서 담당합니다. 1심을 지방법원 단독판사가 담당할 경우에 2심은 지방법원 합의부에서 담당하고, 1심을 지방법원 합의부에서 담당할 경우에 2심은 고등법원에서 담당합니다. 참고로 어느 경우이나 3심은 대법원에서 담당합니다.

ㄷ. (X) 심급제도에서 3심을 담당하는 법원은 최고법원인 '대법원'입니다. 헌법 재판소는 헌법 재판을 담당하는 별도의 기관이며, 심급제도에서 3심을 담당하는 기관은 아닙니다.

ㄹ. (O) '상고'는 2심 법원의 '판결'에 대한 불복입니다. 따라서 A는 1심 법원의 '판결'에 대한 불복을 의미하는 '항소'입니다. 반면, '재항고'는 2심 법원의 '결정과 명령'에 대한 불복입니다. 따라서 B는 1심 법원의 '결정과 명령'에 대한 불복을 의미하는 '항고'입니다.

2. (가)~(라)에 대한 설명으로 옳은 것만을 <보기>에서 고른 것은?

- (가) 모든 국민은 형사상 자기에게 불리한 진술을 강요당하지 아니한다.
- (나) 체포·구속·압수 또는 수색을 할 때에는 영장을 제시하여야 한다.
- (다) 형사피고인은 유죄의 판결이 확정될 때까지는 무죄로 추정된다.
- (라) 모든 국민은 행위시의 법률에 의하여 범죄를 구성하지 아니하는 행위로 소추되지 아니하며, 동일한 범죄에 대하여 거듭 처벌받지 아니한다.

<보 기>

- ㄱ. (가)는 수사절차에서는 적용되나, 공판절차에서는 적용되지 않는다.
- ㄴ. (나)에서 영장은 검사의 신청에 의해 법관이 발부한다.
- ㄷ. (다)와 관련하여 헌법은 형사피고인만 규정하고 있으므로 형사피의자에게는 무죄추정의 원칙이 적용되지 않는다.
- ㄹ. (라)는 형벌법규 불소급의 원칙과 일사부재리의 원칙을 규정한 것이다.

① ㄱ, ㄴ ② ㄱ, ㄷ ③ ㄴ, ㄹ ④ ㄷ, ㄹ

[정답] ③

[출제단원] 법과정치 - V. 사회생활과 법

[출제영역] 형사 절차 단계에서의 인권 보호 원칙과 제도

출제 가능 지수					
난이도 지수					

ㄱ. (X) (가)는 진술 거부권(=묵비권)을 규정하고 있는 헌법 제12조 제2항의 일부 내용입니다. 진술 거부권이란 피의자 또는 피고인이 수사절차 또는 공판절차에서 수사기관 또는 법원의 질문에 대하여 진술을 거부할 수 있는 권리를 말합니다. 따라서 수사절차뿐만 아니라 공판절차에서도 적용됩니다.

ㄴ. (O) (나)는 영장주의에 대하여 규정하고 있는 헌법 제12조 제3항의 일부 내용입니다. 영장주의란 수사기관이 형사절차에 있어 체포·구속과 같은 강제처분을 하는 경우에 법관이 발부한 영장에 의하도록 하는 제도를 말합니다. 영장은 '검사'의 청구에 의해, '법관'이 발부합니다.

ㄷ. (X) (다)는 무죄 추정의 원칙에 대하여 규정하고 있는 헌법 제27조 제4항의 내용입니다. (다)에서 확인할 수 있듯이 헌법은 형사 피고인에 대해서만 무죄 추정의 원칙을 규정하고 있지만, 피의자에게도 무죄추정의 원칙은 적용됩니다. 피고인을 무죄로 추정하는 이상 피고인보다 전 단계에 있는 피의자가 무죄 추정을 받는 것은 당연하기 때문입니다.

ㄹ. (O) (라)는 헌법 제13조 제1항의 내용으로서, 앞부분에서는 형벌법규 불소급의 원칙을, 뒷부분에서는 일사부재리의 원칙을 규정하고 있습니다.

3. 주택임대차보호에 대한 설명으로 옳지 않은 것은?

- ① 기간을 정하지 아니한 임대차는 그 기간을 2년으로 본다.
- ② 임대차가 끝난 후 보증금이 반환되지 아니한 경우에 임차권 등기명령에 따른 임차권 등기를 하면 임차인은 대항력 및 우선변제권을 유지하면서 임차주택에서 자유롭게 이사할 수 있다.
- ③ 임차인이 대항력을 갖춘 후 임대차 계약서에 확정일자를 받으면 임대차 보증금 전액에 대해 선순위 담보권자에 우선하여 변제를 받을 수 있다.
- ④ 임차인이 실제로 입주를 하고 주민등록부상 전입신고를 마치면 그 다음 날부터 임대차에 대항력이 발생한다.

[정답] ③
[출제단원] 법과정치 - IV. 개인 생활과 법
[출제영역] 주택 임대차

출제 가능 지수					
난이도 지수					

- ① (O) 주택 임대차 보호법에서는 ‘기간을 정하지 아니하거나 2년 미만으로 정한 임대차는 그 기간을 2년으로 본다.’고 하여 2년의 임대차 기간을 보장하고 있습니다.
- ② (O) 주택 임차인이 임대차 기간이 만료되었음에도 보증금을 돌려받지 못하고 이사를 가버리면 점유(=인도, 입주)라는 요건을 상실하게 되어 이미 취득했던 대항력 및 우선변제권을 상실하게 됩니다. 이러한 문제를 해결하기 위해 주택 임대차 보호법은 임차권 등기 명령 제도를 규정하고 있습니다. 만약 임대차 기간이 종료되었음에도 임대인이 보증금을 돌려주지 않는다면, 임차인은 법원에 임차권 등기 명령을 신청할 수 있습니다. 이후 법원이 임차권 등기 명령을 하게 되면 등기소에서 임차권 등기를 하게 됩니다. 이러한 과정을 거쳐 임차권이 등기부의 ‘을구’에 등기되면 주택 임차인은 대항력 및 우선변제권을 그대로 유지하면서 자유롭게 이사를 갈 수 있습니다.
- ③ (X) 임차인이 대항요건(=점유 + 주민등록 이전) 및 계약서상 확정일자를 갖추면 보증금에 대한 우선 변제권이 인정됩니다. 우선 변제권이 인정된다는 것은 해당 주택이 경매되는 경우에, 경락대금에서 ‘후순위권리자’나 그 밖의 ‘채권자’에 우선하여 보증금을 변제받을 수 있다는 것입니다. 즉, 선순위 저당권자에 우선하여 보증금을 변제받을 수 있는 것은 아닙니다.
- ④ (O) 임차인이 임대인 이외의 제3자에게도 임대차 계약상의 권리를 주장할 수 있는 힘을 대항력이라고 합니다. 주택 임대차 보호법에서는 ‘임차인이 주택의 인도와 주민등록을 마친 때에는 그 다음날부터 제3자에 대하여 효력이 생긴다.’고 규정하고 있습니다.

4. 범죄를 범한 만 14세인 갑에 대한 소년 사건의 처리 과정에 대한 설명으로 옳은 것은?

(가) 갑이 가정법원 소년부에 송치된 경우
(나) 갑이 지방법원에 기소된 경우

- ① (가)의 경우 갑은 가정법원 소년부에 국민참여재판을 신청할 수 있다.
- ② (가)의 경우 갑은 가정법원 소년부에 의해 형벌도 받을 수 있다.
- ③ (나)의 경우 갑은 「소년법」상의 소년에 해당하므로 법원은 금고 이상의 형을 선고할 수 없다.
- ④ 검사는 (가), (나)의 방법을 취하지 아니하고 선도를 조건으로 기소를 유예할 수 있다.

[정답] ④
[출제단원] 법과정치 - V. 사회생활과 법
[출제영역] 미성년자의 형사상 보호

출제 가능 지수					
난이도 지수					

- 갑은 형법을 위반하는 범죄 행위를 한 (만)14세 이상 ~ (만)19세 미만의 소년이므로 ‘범죄소년’입니다. (가)는 범죄소년을 가정법원 소년부에 송치하여 ‘보호사건’으로 처리하는 것이고, (나)는 범죄소년에 대하여 일반 형사법원에 공소를 제기하여 일반 ‘형사사건’으로 처리하는 것입니다.
- ① (X) 국민참여재판은 국민이 배심원으로 참여하는 ‘형사재판’을 말합니다. 따라서 일반 형사사건이 아니라, 보호사건으로 처리하는 (가)에서 갑이 국민참여재판을 신청할 수는 없습니다.
 - ② (X) ‘보호사건’을 담당하는 가정법원 소년부에서는 보호처분 결정만 할 수 있을 뿐이며, 형벌을 부과할 수는 없습니다.
 - ③ (X) 소년법상의 소년이란 19세 미만인 자를 말합니다. 또한 금고 이상의 형이란 금고, 징역, 사형을 의미합니다. 문제에서 갑은 범죄소년이므로 소년법상의 소년은 맞습니다. 다만, 범죄소년에 대해서는 죄를 범할 당시 18세 미만인 소년에 대하여 사형 또는 무기형으로 처할 경우 15년의 유기징역으로 한다는 제한이 있을 뿐이므로 이 범위 내에서는 유기징역과 유기금고의 형을 선고할 수 있습니다. 따라서 금고 이상의 형을 선고할 수 없다는 것은 옳지 않은 설명입니다.
 - ④ (O) 검사는 범죄소년에 대하여 선도를 받는 것을 조건으로 공소를 제기하지 않을 수 있는데, 이를 ‘선도조건부 기소유예’라고 합니다.

5. 헌법기관 A~D에 대한 설명으로 옳은 것은?

- 행정권은 A를 수반으로 하는 정부에 속한다.

○ B는 A를 보좌하며, 행정에 관하여 A의 명을 받아 C를 통할한다.

○ C의 장은 국무위원 중에서 B의 제청으로 A가 임명한다.

○ D는 정부의 권한에 속하는 중요한 정책을 심의하는 기관으로 A, B와 국무위원으로 구성된다.

- ① A는 국회의 동의를 얻어 B를 임명하며, B는 국무위원의 해임을 A에게 건의할 수 있다.
- ② C의 장은 소관사무에 관하여 법률이나 대통령령의 위임으로 부령을 발할 수 있으나, 직권으로 부령을 발할 수는 없다.
- ③ D의 의장은 A이고 부의장은 B이며, D는 구성원 과반수의 출석으로 개의하고 출석구성원 과반수의 찬성으로 의결한다.
- ④ 감사원장은 국회의 동의를 얻어 A가 임명하고, 감사위원은 B의 제청으로 A가 임명한다.

[정답] ①

[출제단원] 법과정치 - III. 헌법의 기본 원리

[출제영역] 행정부

출제 가능 지수					
난이도 지수					

A는 ‘대통령’, B는 ‘국무총리’, C는 ‘행정각부’, D는 ‘국무회의’입니다.

① (O) 대통령(A)은 국회의 동의를 얻어 국무총리(B)를 임명합니다(헌법 제86조 제1항). 또한 국무총리(B)는 국무위원의 해임을 대통령(A)에게 건의할 수 있습니다(헌법 제87조 제3항).

② (X) 헌법 제95조에서는 ‘국무총리 또는 행정각부의 장은 소관사무에 관하여 법률이나 대통령령의 위임 또는 직권으로 총리령 또는 부령을 발할 수 있다.’고 규정하고 있습니다. 이 규정에서 알 수 있듯이 행정각부(C)의 장은 법률이나 대통령령의 위임이 없더라도 직권으로 부령을 발할 수 있습니다. 참고로 ‘총리령’은 국무총리가 소관사무에 관하여 법률이나 대통령령의 위임 또는 직권으로 발하는 명령을 말하고, ‘부령’은 행정각부의 장이 소관사무에 관하여 법률이나 대통령령의 위임 또는 직권으로 발하는 명령을 말합니다.

③ (X) 대통령(A)은 국무회의(D)의 의장이 되고, 국무총리(B)는 부의장이 됩니다. 국무회의에서의 의사 정족수 및 의결 정족수에 대해서는 대통령령인 ‘국무회의 규정’에서 규정하고 있는데, 이에 의할 때 국무회의(D)는 구성원 과반수의 출석으로 개의하고, 출석구성원 3분의 2 이상의 찬성으로 의결하도록 되어 있습니다.

④ (X) 감사원장은 국회의 동의를 얻어 대통령(A)이 임명하는 것은 맞습니다. 그러나 감사위원은 감사원장의 제청으로 대통령이 임명하는 것이며, 국무총리의 제청으로 임명하는 것은 아닙니다.

※ 선택지 중 ②, ③번은 낯선 내용일 수 있습니다. 특히 ③번 선택지는 매우 지엽적인 부분입니다. 다만, 이를 모른다고 하여도 정답 자체는 명확하기 때문에 문제를 풀이하는데 어려움은 없었을 것입니다.

6. 다수 대표제와 비교할 때 비례 대표제의 특징으로 옳은 것은?

- ① 정당 득표율과 정당 의석률 간의 괴리를 줄인다.
- ② 소수 정당의 의회 진출에 불리하다.
- ③ 양당제의 형성을 촉진한다.
- ④ 사표가 많다.

[정답] ①

[출제단원] 법과정치 - II. 민주 정치의 과정과 참여

[출제영역] 대표제

출제 가능 지수					
난이도 지수					

다수 대표제는 최다수 득표자 1인만 당선시키는 제도입니다. 반면, 비례 대표제는 각 정당의 득표율에 비례하여 의석을 배분하는 제도입니다.

① (O) 다수 대표제에서는 최다수 득표자 1인만 당선되므로 어떠한 정당 소속 후보자가 아무리 득표를 많이 했다고 하더라도 해당 선거구에서 최다수 득표를 하지 않는 이상 의석을 확보하지 못합니다. 따라서 정당 득표율과 정당 의석률 간의 괴리가 있을 수 있습니다. 반면, 비례 대표제에서는 정당 득표율에 따라 의석을 배분하기 때문에 정당 득표율과 정당 의석률 간의 괴리를 상당부분 줄일 수 있습니다.

② (X) 비례 대표제에서는 군소 정당에게도 득표율에 비례하여 의석을 배분하기 때문에 소수 정당의 의회 진출에 유리합니다.

③ (X) 양당제의 형성을 촉진하는 대표제는 ‘다수 대표제’입니다. 즉, 다수 대표제에서는 최다수 득표를 할 가능성이 높은 거대 정당 후보들의 당선 가능성이 높으므로 결과적으로 양당제 형성에 유리합니다. 반면, 비례 대표제에서는 군소 정당들의 의회 진출이 가능하므로 양당제 형성을 촉진한다고 볼 수는 없습니다.

④ (X) 비례 대표제는 정당 득표율에 비례하여 의석을 배분하므로 사표 발생을 최소화하는 제도입니다.

7. 우리나라의 선거제도와 정당제도에 대한 설명으로 옳은 것은?

- ① 대한민국 국민임에도 불구하고 「주민등록법」상 주민등록을 할 수 없는 재외 국민의 선거권 행사는 전면적으로 부정되고 있다.
- ② 지역구 국회의원 및 지역구 광역의회의원 선거에서 소선거구제를 채택하고 있다.
- ③ 지역구 국회의원 후보의 득표를 기준으로 비례대표 국회의원 의석을 배분하고 있다.
- ④ 임기만료에 의한 국회의원 선거에 참여하여 의석을 얻지 못하고, 유효투표총수의 2% 이상을 득표하지 못한 정당의 등록은 취소된다.

[정답] ②
[출제단원] 법과정치 - II. 민주 정치의 과정과 참여
[출제영역] 우리나라의 선거제도와 정당제도

출제 가능 지수					
난이도 지수					

- ① (X) 헌법 재판소는 단지 주민등록이 되어 있는지 여부에 따라 선거인명부에 오를 자격을 결정하여 그에 따라 선거권 행사 여부가 결정되도록 함으로써 엄연히 대한민국의 국민임에도 불구하고 재외 국민의 선거권 행사를 전면적으로 부정하고 있는 공직선거법 규정에 대해 합리적 이유 없이 선거권을 제한하는 것으로서 ‘보통 선거 원칙’에 위반한다고 판단하였습니다. 이에 따라 국회는 공직선거법을 개정하여 재외국민도 대통령 선거권과 비례대표 국회의원 선거권을 행사할 수 있도록 하였으며, 일정한 요건 하(=주민등록표에 3개월 이상 계속하여 올라 있고 해당 지역에 주민등록이 되어 있는 사람)에 지역구 국회의원 및 지방 선거권도 인정하고 있습니다.
- ② (O) 지역구 국회의원 및 지역구 광역의회의원 선거는 소선거구제를 채택하고 있습니다. 반면, 지역구 기초의회의원 선거는 중선거구제를 채택하고 있습니다.
- ③ (X) 예전 공직선거법에서는 국회의원 선거시 별도의 정당 투표를 실시하지 않고 지역구 국회의원 후보의 득표를 정당에 대한 투표로 의제하여 비례 대표 의석을 배분하는 것으로 규정하고 있었습니다(= 1인 1표제). 이에 대해 헌법 재판소는 어떤 선거권자가 무소속 지역구후보자를 지지하여 그에 대하여 투표한 경우 그 투표는 무소속후보자의 선출에만 기여할 뿐 비례 대표 의원의 선출에는 전혀 기여하지 못하므로 투표가치의 불평등이 발생하여 평등 선거 원칙에 반한다고 판단하였고, 이에 국회는 공직 선거법을 개정하여 1인 2표제를 도입하였습니다. 이에 따라 유권자는 국회의원 선거시 지역구 후보자에게 1표를, 정당에 별도의 1표를 각각 행사하게 되었습니다. 즉, 현행 제도에서는, 지역구 국회의원 후보의 득표를 기준으로 비례대표 국회의원 의석을 배분하는 것이 아니라, 별도의 정당 투표에서의 정당 득표율을 기준으로 비례대표 국회의원 의석을 배분하고 있습니다.
- ④ (X) 이 내용은 개정 전 정당법에서 규정하고 있던 정당 등록의 취소 사유에 대한 내용입니다(개정 전 정당법 제44조 제1항 3호). 이 규정에 대해서는 2014년 1월 헌법 재판소가 정당 설립의 자유를 침해하여 위헌이라는 판단을 하였습니다(2012헌마431). 따라서 현행 정당법에 의할 때 어떤 정당이 국회의원 선거에 참여하여 의석을 얻지 못하고, 유효투표총수의 2% 이상을 득표하지 못했다고 하더라도 정당의 등록이 취소되지는 않습니다.

8. 다음은 민주 정치에 대한 두 사람의 견해이다. 이에 대한 설명으로 옳은 것은?

갑 : 만일 국민들이 정치에 무관심하면 국민 의사와 관계없는 정책이 채택된다. 대의 민주제의 이러한 문제점을 보완하기 위해 국민투표, 국민발안, 국민소환 등의 제도를 도입해야 한다.

을 : 국민의 정치 참여가 민주 정치 발전에 항상 기여하는 것은 아니다. 의사 결정 과정에서 말썬씨가 뛰어난 소수에 의해 다수가 생각 없이 설득 당하는 사례가 발생할 수 있다.

- ① 갑은 직접 민주제 도입에 반대하고 있다.
- ② 갑은 소수 엘리트에 의한 정치가 바람직하다고 주장할 것이다.
- ③ 을은 고대 아테네의 도편추방제 방식을 추천할 것이다.
- ④ 을은 중우 정치의 가능성을 지적하고 있다.

[정답] ④
[출제단원] 법과정치 - I. 민주 정치와 법
[출제영역] 민주 정치의 유형

출제 가능 지수					
난이도 지수					

- 갑은 간접 민주 정치(=대의제)의 문제점을 보완하기 위한 제도인 직접 민주 정치 제도의 도입을 주장하고 있습니다. 반면, 을은 직접 민주 정치에서 ‘중우 정치’의 가능성이 높다는 문제점을 지적하고 있습니다.
- ① (X) 갑이 도입을 주장하는 국민투표, 국민발안, 국민소환 제도는 모두 직접 국민의 참여를 필요로 하는 직접 민주 정치의 제도를 입니다. 따라서 갑이 직접 민주제 도입에 반대하는 것은 아닙니다.
 - ② (X) ‘소수 엘리트에 의한 정치’라는 것은 결국 대표자가 간접적으로 주권을 행사하는 정치 형태인 ‘간접 민주 정치’와 관련이 있습니다. 갑은 간접 민주 정치에는 일정한 문제점이 있음을 지적하고 있으므로 소수 엘리트에 의한 정치가 바람직하다고 주장하는 것은 아닙니다.
 - ③ (X) ‘도편추방제’는 고대 그리스 아테네에서 독재자가 될 가능성이 있는 인물을 시민에 의한 투표로 10년 간 국외로 추방시키는 제도입니다. 을은 말썬씨가 뛰어난 선동가에 의해 다수가 현명하지 못한 판단을 내릴 수 있음을 지적하고 있으므로 도편추방제 방식을 추천하지는 않을 것입니다.
 - ④ (O) ‘중우 정치’란 다수의 어리석은 민중이 이끄는 정치를 이르는 말로, 선동가와 군중 심리에 의해 다수가 현명하지 못한 판단을 내리는 경우를 뜻합니다. 을은 직접 민주 정치의 경우 중우 정치의 가능성이 높다는 점을 지적하고 있습니다.

9. 국제연합(UN)에 대한 설명으로 옳은 것은?

- ① 국제사법재판소는 당사국의 의사와 관계없이 강제적 관할권을 갖는다.
- ② 절차 사항에 관한 안전보장이사회의 결정에서 5개 상임이사국의 거부권이 인정된다.
- ③ 사무총장은 국제 평화와 안전에 위협이 된다고 판단한 문제에 대해 안전보장이사회의 주의를 환기할 수 있다.
- ④ 총회는 모든 안전에 대해 출석 투표국 과반수의 찬성으로 의결한다.

[정답] ③

[출제단원] 법과정치 - VI. 국제 사회의 법과 정치

[출제영역] 국제연합(UN)

출제 가능 지수					
난이도 지수					

- ① (X) 국제사법재판소는 강제적 관할권이 없습니다. 따라서 분쟁 당사국 간 합의가 있어야만 재판이 가능합니다.
- ② (X) 안전보장이사회의 의사 결정 방법은 ‘실질 사항’과 ‘절차 사항’에 대한 결정으로 구분됩니다. 먼저 ‘실질 사항’이란 국가들의 이해가 걸린 실질적이고 중대한 사항을 의미합니다. 실질 사항을 결정하기 위해서는 상임 이사국(5개국)의 일치를 포함한 9개국의 찬성을 필요로 합니다. 따라서 ‘실질 사항’에 대한 결정에서는 상임 이사국의 거부권이 인정됩니다. 반면, ‘절차 사항’이란 절차적 문제에 관한 사항을 의미합니다. 절차 사항을 결정하기 위해서는 단순 9개국의 찬성만 있으면 됩니다. 따라서 ‘절차 사항’에 대한 결정에서는 상임 이사국의 거부권이 인정되지 않습니다.
- ③ (O) 사무총장은 국제 연합의 수석 행정관으로서의 업무를 수행하는데, 사무총장은 국제 평화와 안전을 위협한다고 인정하는 사항에 대하여 안전보장이사회에 주의를 환기할 수 있습니다. 이를 통해 국제 평화와 안전의 유지에 중요한 역할을 하게 되는 것입니다.
- ④ (X) 총회의 의사 결정 방법은 ‘중요문제’와 ‘기타문제’에 대한 결정으로 구분됩니다. 먼저 ‘중요문제’는 국제평화와 안전의 유지에 관한 권고, 안보리 비상임이사국 선거, 회원국의 가입 승인과 같은 중요한 사항을 의미합니다. 중요문제는 출석 투표국 2/3의 찬성으로 의결합니다. 반면, ‘기타문제’는 ICJ 법관선출, 사무총장선출 등과 같이 국제연합 헌장에서 규정하고 있는 중요문제가 아닌 사항을 의미합니다. 기타문제는 출석 투표국 과반수의 찬성으로 의결합니다. 따라서 총회가 모든 안전에 대해 출석 투표국 과반수의 찬성으로 의결하는 것은 아닙니다.

10. 국제 사회의 행위 주체에 대한 설명으로 옳은 것은?

- ① 유럽연합(EU)은 국제 사회의 행위 주체이지만, 국제사면위원회(Amnesty International)은 국제 사회의 행위 주체가 아니다.
- ② 강대국의 현직 국가 원수는 국제 사회의 행위 주체이지만, 전직 국가 원수는 국제적 영향력이 강하더라도 국제 사회의 행위 주체가 아니다.
- ③ 국가의 경계를 초월해 활동하는 다국적 기업은 국제 사회의 행위 주체가 아니다.
- ④ 국제 사회에서 독자적으로 활동하는 소수 민족은 국제 사회의 행위 주체이다.

[정답] ④

[출제단원] 법과정치 - VI. 국제 사회의 법과 정치

[출제영역] 국제 사회의 행위 주체

출제 가능 지수					
난이도 지수					

- ① (X) 유럽연합은 국제기구 중 정부 간 기구이고, 국제사면위원회는 국제기구 중 비정부 간 기구입니다. 즉, 둘 다 국제기구로서 국제 사회의 행위 주체입니다.
- ② (X) 강대국의 현직 국가 원수뿐만 아니라 전직 국가 원수도 국제 사회에 영향력이 있다면 국제 사회의 행위 주체에 해당합니다.
- ③ (X) 코카콜라, 나이키, 구글과 같이 국가 간의 경계를 넘나드는 경제 활동을 통해 국제 사회에 영향력을 끼치는 다국적 기업은 국제 사회의 행위 주체입니다.
- ④ (O) 지방 정부나 소수 민족과 같이 비록 한 국가의 일부이지만 국제적으로 독자적인 영향력을 행사하는 국가 내부적 행위체도 국제 사회의 행위 주체입니다.

11. 갑국, 을국, 병국이 노동만을 생산 요소로 하여 X재와 Y재 중 한 재화만 생산할 때 최대 생산량은 다음 표와 같다. 이에 대한 설명으로 옳은 것은? (단, 각 국의 생산 가능 곡선은 직선이다.)

구분	X재	Y재
갑국	20	20
을국	6	10
병국	40	40

- ① X재 생산에 갑국은 을국보다 절대 우위와 비교 우위를 가지고 있다.
- ② X재 생산에 을국은 병국보다 비교 우위를 가지고 있다.
- ③ X재 1단위 생산의 기회비용은 병국이 갑국보다 크다.
- ④ 병국은 X재와 Y재 생산에 모두 을국보다 절대 우위를 가지고, 갑국에 대해서는 절대 우위를 가지지 않는다.

[정답] ①

[출제단원] 경제 - V.세계 시장과 한국 경제

[출제영역] 무역 이론

출제 가능 지수					
난이도 지수					

갑국, 을국, 병국에서 각 재화 1단위 생산의 기회비용을 각각 구하면 다음과 같습니다.

구분	X재 1단위 생산의 기회비용	Y재 1단위 생산의 기회비용
갑국	Y재 1단위(=20/20)	X재 1단위(=20/20)
을국	Y재 5/3단위(=10/6)	X재 3/5단위(=6/10)
병국	Y재 1단위(=40/40)	X재 1단위(=40/40)

- ① (O) 절대 우위는 동일한 자원을 이용해서 다른 국가보다 더 많이 생산할 수 있는 능력을 말하고, 비교 우위는 동일한 수량을 생산하면서 다른 국가보다 자원을 더 적게 사용하는 능력을 말합니다. 동일하게 노동을 투입할 경우 갑국은 을국보다 더 많은 X재를 생산할 수 있으므로, 갑국은 을국보다 X재 생산에 절대 우위가 있습니다. 한편 갑국은 을국보다 X재 1단위 생산의 기회비용이 작으므로, 갑국은 을국보다 X재 생산에 비교 우위가 있습니다.
- ② (X) 병국이 을국보다 X재 1단위 생산의 기회비용이 작으므로, 병국이 을국보다 X재 생산에 비교 우위를 가집니다.
- ③ (X) X재 1단위 생산의 기회비용은 갑국과 병국이 같습니다.
- ④ (X) 동일하게 노동을 투입할 경우 병국은 갑국이나 을국보다 더 많은 X재와 Y재를 생산할 수 있으므로, 병국은 을국뿐만 아니라 갑국에 대해서도 X재와 Y재 생산에 모두 절대 우위를 가집니다.

12. 다음 표는 소비의 경합성과 배제성의 유무에 따라 재화와 서비스를 구분한 것이다. 이에 대한 설명으로 옳은 것은?

구분		소비의 배제성	
		유	무
소비의 경합성	유	A	B
	무	C	D

- ① A는 한 사람이 일정량을 소비하더라도 다른 사람이 소비하는 몫이 줄어들지 않는다.
- ② B는 비용을 지불하지 않은 사람도 소비할 수 있다.
- ③ 국방 서비스는 C에 해당한다.
- ④ C와 D는 무임 승차자의 문제가 발생하지 않는다.

[정답] ②

[출제단원] 경제 - III.시장과 경제 활동

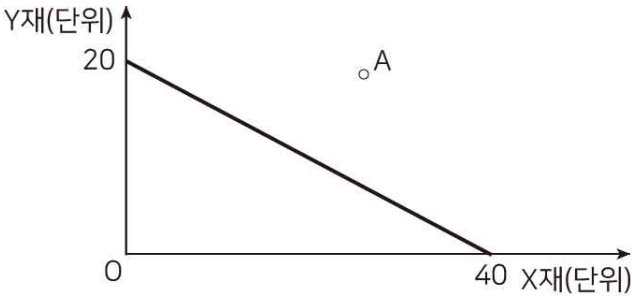
[출제영역] 배제성과 경합성에 따른 재화의 분류

출제 가능 지수					
난이도 지수					

주어진 표에서 A는 사적 재화, B는 공유 자원, C는 자연 독점, D는 공공재에 해당합니다.

- ① (X) 사적 재화(A)는 경합성이 있어 한 사람이 일정량을 소비할 경우 다른 사람이 소비하는 몫이 줄어들 것입니다.
- ② (O) 공유 자원(B)은 배제성이 없어 비용을 지불하지 않은 사람을 소비로부터 배제할 수 없습니다. 즉, 공유 자원(B)은 비용을 지불하지 않은 사람도 소비할 수 있습니다.
- ③ (X) 정부가 제공하는 국방 서비스는 한 사람이 이를 소비한다고 하여 다른 사람이 이를 소비하지 못하게 되는 것이 아니며, 비용을 지불하지 않은 사람을 소비로부터 배제할 방법도 없습니다. 즉, 국방 서비스는 경합성과 배제성이 없는 공공재(D)에 해당합니다.
- ④ (X) 무임 승차자의 문제는 재화를 소비하여 이득을 보았음에도 불구하고 이에 대한 대가 지불을 회피하는 행위를 말합니다. 공공재(D)는 배제성이 없어 무임 승차자의 문제가 나타날 수 있으나, 자연 독점(C)은 배제성이 있어 무임 승차자의 문제가 발생하지 않습니다.

13. 다음 그림은 갑국의 X재와 Y재에 대한 생산 가능 곡선을 나타낸 것이다. 이에 대한 설명으로 옳은 것은? (단, 생산 가능 곡선은 직선이며, 갑국은 X재와 Y재만 생산한다.)

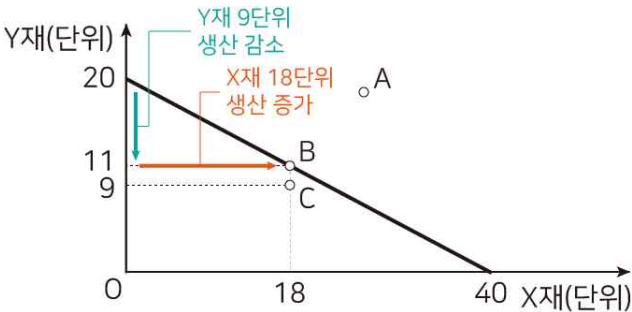


- ① X재 1단위 생산의 기회비용은 Y재 $\frac{1}{2}$ 단위이다.
- ② X재 18단위와 Y재 9단위를 동시에 생산하는 것은 효율적이다.
- ③ X재의 생산이 증가할수록 X재 1단위 생산의 기회비용은 감소한다.
- ④ A점은 비효율적인 생산 조합이다.

[정답] ①
 [출제단원] 경제 - Ⅰ.경제생활과 경제 문제의 이해
 [출제영역] 생산 가능 곡선의 이해

출제 가능 지수					
난이도 지수					

- ① (O) 생산 가능 곡선에서 X재 40단위의 생산을 늘리기 위해서는 Y재 20단위의 생산을 줄여야 한다는 것을 알 수 있습니다. 따라서 X재 1단위 생산의 기회비용은 Y재 $\frac{1}{2}$ 단위($= \frac{20}{40}$)입니다.
- ② (X) X재 1단위 생산의 기회비용은 Y재 $\frac{1}{2}$ 단위이므로, X재 18단위를 생산하기 위해서는 Y재 9단위의 생산을 포기하면 됩니다. 이 경우 X재 18단위와 Y재 11단위(=20-9)를 동시에 생산할 수 있을 것이므로, X재 18단위를 생산할 때 Y재를 9단위만 생산하는 것은 비효율적입니다. 이를 그래프로 나타내면 다음과 같으며, 이 경우 B점은 생산 가능 곡선 상의 점으로 효율적인 생산점이지만, C점은 생산 가능 곡선 안쪽의 점으로 비효율적인 생산점입니다.



- ③ (X) 기울기가 일정한 생산 가능 곡선의 경우 생산 가능 곡선 상의 모든 점에서 어떤 재화 1단위 생산의 기회비용은 일정하게 나타납니다. 따라서 X재의 생산이 증가할수록 X재 1단위 생산의 기회비용은 감소한다는 것은 옳지 않은 설명입니다.
- ④ (X) A점은 생산 가능 곡선 바깥쪽에 위치한 점으로 생산이 불가능한 조합에 해당합니다. 비효율적인 생산 조합은 생산 가능 곡선 안쪽에 위치한 점을 말합니다.

14. 다음 표는 경제 주체 A, B, C의 특징을 나타낸 것이다. 이에 대한 설명으로 옳은 것만을 <보기>에서 고른 것은?

구분	경제 주체		
	A	B	C
소비 활동의 주체인가?	아니요	아니요	예
이윤 극대화가 경제 활동의 목적인가?	예	아니요	아니요
조세를 걷어 공공재와 공공서비스를 공급하는가?	아니요	예	아니요

<보 기>

ㄱ. 생산물 시장에서 B는 수요자, C는 공급자의 역할을 한다.
 ㄴ. A는 생산물 공급을, C는 생산 요소 공급을 통해 수입을 얻는다.
 ㄷ. A와 C는 B의 경제 활동에 필요한 재원을 공급한다.
 ㄹ. A는 국민 경제 주체이고, B와 C는 민간 경제 주체이다.

- ① ㄱ, ㄴ ② ㄱ, ㄹ ③ ㄴ, ㄷ ④ ㄷ, ㄹ

[정답] ③
 [출제단원] 경제 - Ⅰ.경제생활과 경제 문제의 이해
 [출제영역] 경제 활동의 주체

출제 가능 지수					
난이도 지수					

주어진 표에서 A는 기업, B는 정부, C는 가게입니다.

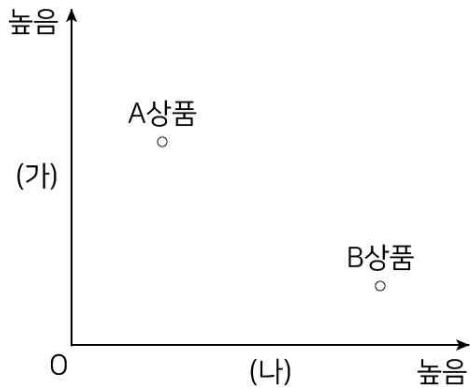
ㄱ. (X) 생산물 시장에서 수요자의 역할을 하는 경제 주체는 가게(C), 공급자의 역할을 하는 경제 주체는 기업(A)입니다.

ㄴ. (O) 기업(A)은 생산물을 판매한 대가로 수입을 얻고, 가게(C)는 노동과 같은 생산 요소를 제공하여 임금 등의 수입을 얻습니다.

ㄷ. (O) 기업(A)과 가게(C)는 조세를 납부하여 정부(B)의 경제 활동에 필요한 재원을 공급합니다. 정부(B)는 기업(A)과 가게(C)로부터 거두어들인 조세 수입으로 공공재와 공공서비스를 공급합니다.

ㄹ. (X) 정부(B)는 국민 경제 주체이고, 기업(A)과 가게(C)는 민간 경제 주체에 해당합니다.

15. 다음 그림은 금융 상품을 비교한 것이다. 이에 대한 설명으로 옳지 않은 것은? (단, (가)와 (나)는 각각 안전성, 수익성 중 하나이고, A상품과 B상품은 각각 정기 예금, 주식 중 하나이다.)



- ① (가)에 수익성이 들어간다면 A상품은 주식이다.
- ② (나)에 안전성이 들어간다면 A상품은 B상품보다 원금 보장이 불확실하다.
- ③ A상품이 정기 예금이라면 (나)에는 안전성이 들어간다.
- ④ A상품이 주식이라면 B상품이 A상품보다 안전성이 더 높다고 할 수 있다.

[정답] ③

[출제단원] 경제 - VI.경제생활과 금융

[출제영역] 다양한 금융 상품

출제 가능 지수					
난이도 지수					

정기 예금은 주식에 비해 안전성이 높지만, 수익성은 낮은 금융 상품입니다. 반대로 주식은 정기 예금에 비해 수익성은 높지만, 안전성이 낮은 금융 상품에 해당합니다.

- ① (O) (가)에 수익성이 들어간다면 A상품은 B상품보다 수익성이 높게 나타납니다. 따라서 (가)에 수익성이 들어간다면 A상품은 주식, B상품은 정기 예금이 될 것입니다.
- ② (O) (나)에 안전성이 들어간다면 A상품은 B상품보다 안전성이 낮게 나타납니다. 따라서 (나)에 안전성이 들어간다면 A상품은 B상품보다 원금 보장이 불확실할 것입니다. (안전성은 금융 상품의 원금과 이자가 보전될 수 있는 정도를 말합니다.)
- ③ (X) A상품이 정기 예금이라면 B상품은 주식이므로 (가)에는 안전성, (나)에는 수익성이 들어가야 합니다.
- ④ (O) A상품이 주식이라면 B상품은 정기 예금이므로 B상품이 A상품보다 안전성이 더 높다고 할 수 있습니다.

16. 다음은 어떤 연구 과정의 일부를 나타낸 것이다. 이에 대한 설명으로 옳은 것은?

<ul style="list-style-type: none"> 연구 가설 : A프로그램의 실시는 학업 성취도 향상에 효과적일 것이다. 연구 설계 			
	학업 성취도 ㉠ 사전 검사 평균	A프로그램 실시 여부	학업 성취도 ㉡ 사후 검사 평균
(가) 집단	X1	실시	X2
(나) 집단	Y1	실시 안 함	Y2
※ A프로그램 실시 여부 이외 다른 변수의 효과는 모두 통제됨			

- ① $X1=Y1$ 이고 $X2<Y2$ 가 통계적으로 의미 있는 경우, 연구 가설은 기각된다.
- ② $X1=Y1=X2$ 이고 $Y2>Y1$ 이 통계적으로 의미 있는 경우, A프로그램이 학업 성취도 향상에 효과적이라고 할 수 있다.
- ③ ㉠에서는 독립 변수를, ㉡에서는 종속 변수를 측정한다.
- ④ 실험법이 활용되었으며, (가)는 통제 집단, (나)는 실험 집단이다.

[정답] ①

[출제단원] 사회문화 - I. 사회·문화 현상의 탐구

[출제영역] 실험법

출제 가능 지수					
난이도 지수					

- ① (O) $X1=Y1$ 이라는 것은 사전 검사를 통해 (가)와 (나) 집단의 성질이 동일하다는 것이 확인되었음을 의미합니다. 이후 A프로그램 실시라는 실험 처치를 한 (가)집단에서의 사후 검사 평균값($X2$)이 실험 처치를 하지 않은(= A프로그램을 실시하지 않은) (나)집단에서의 사후 검사 평균값($Y2$)보다 작게 나왔다는 것은 A프로그램의 실시가 학업 성취도 향상에 효과적이라는 가설과는 반대의 결론이 나왔다는 것을 의미합니다. 따라서 연구 가설은 기각되게 됩니다.
- ② (X) (가) 집단에서 사전 검사 평균값인 $X1$ 과 A프로그램을 실시한 이후 사후 검사 평균값인 $X2$ 가 동일하다는 것. 그리고 A프로그램을 실시하지 않은 (나)집단의 사후 검사 평균값 $Y2$ 가 사전 검사 평균값 $Y1$ 보다 크다는 것은 결국 A프로그램 실시 여부가 학업 성취도 향상에 어떤 영향을 끼치지 못했음을 의미합니다.

※ 참고로 제시된 실험에서 A프로그램이 학업 성취도 향상에 효과적이라는 가설이 채택되기 위해서는 $X1=Y1=Y2$ 이고, $X2$ 가 통계학적으로 의미 있는 수준에서 $Y2$ 보다 크면(즉, $X2>Y2$) 가설에서 예측한 대로 결과 값이 나온 것이기 때문에 가설이 채택되게 됩니다.	
--	--

- ③ (X) 사전 검사는 실험 처치(=A프로그램 실시)가 가해지기 이전의 종속 변수를 측정하는 것이고, 사후 검사는 실험 처치가 가해진 이후의 종속 변수를 측정하는 것입니다. 따라서 ㉡에서 종속 변수를 측정한 것은 맞지만, ㉠에서 독립 변수를 측정한 것은 아닙니다. 참고로 ‘독립 변수’는 ‘원인’, ‘종속 변수’는 ‘결과’에 해당하는 변수입니다. 제시된 실험에서 독립 변수는 ‘A프로그램의 실시’이고, 종속 변수는 ‘학업 성취도’입니다.
- ④ (X) 실험법이란 연구자가 실험 집단에게 일정한 조작을 가하고 그로 인해 나타나는 변화를 관찰하여 자료를 수집하는 방법을 말합니다. 따라서 제시된 사례는 실험법이 맞습니다. 그러나 (가)가 실험 집단이고, (나)가 통제 집단이므로 뒷부분이 틀린 것입니다. 참고로 실험법에서 ‘통제 집단’이란 실험 처치가 가해지지 않는 집단을 말하고, ‘실험 집단’이란 실험 처치가 가해진 집단을 말합니다.

17. A이론에 대한 설명으로 옳은 것만을 <보기>에서 고른 것은?

A이론에서 제3세계 국가는 서구 사회가 걸어온 길을 따라 걷게 되면 서구 사회처럼 발전할 수 있다. A이론에 의하면 제3세계 국가도 서구의 자본주의, 합리주의 그리고 민주주의 양식의 도입을 통해 발전할 수 있다.

- <보 기>
- ㄱ. 비서구 사회의 근대화를 촉진했다는 평가를 받기도 한다.
 - ㄴ. 사회 변동이 하나의 방향으로 진행된다는 관점에 기반한다.
 - ㄷ. 제3세계 국가는 미(未)발전이 아니고 저(低)발전 상태에 있다고 본다.
 - ㄹ. 제3세계 국가는 자국 산업을 중심으로 주체적인 발전을 추구해야 한다고 주장한다.

- ① ㄱ, ㄴ ② ㄱ, ㄷ ③ ㄴ, ㄹ ④ ㄷ, ㄹ

[정답] ①
[출제단원] 사회문화 - VI. 현대 사회와 사회 변동
[출제영역] 근대화론과 종속 이론

출제 가능 지수					
난이도 지수					

A이론은 제3세계 국가들이 이미 근대화를 이룩한 서구 선진 사회를 모형으로 삼아 국가 발전을 추구한다면 근대화에 이르게 된다는 것이므로 ‘근대화론’에 해당합니다.

ㄱ. (O) 근대화론은 저개발국은 전근대적 전통 요소를 버리고 근대적 요소를 받아들이면 근대화가 가능하다고 보는 것입니다. 이 이론의 영향을 받아 제3세계 국가들이 산업화를 통해 경제 성장을 이루고 어느 정도 민주주의 발전을 이루기도 하였습니다.

ㄴ. (O) 근대화론은 모든 사회는 일정한 단계를 거쳐 발전하게 된다는 사회 진화론에 바탕을 두고 있는 주장입니다.

ㄷ. (X) 중남미 국가들이 근대화론에 입각하여 근대화를 위한 노력을 하였음에도 서구 선진 사회와의 격차가 좁혀지지 않는 상황에 대한 의문이 제기되었습니다. 즉, 해당 국가가 스스로 근대화를 위한 노력을 하는데도 근대화를 이루지 못하는 것은 다른 어떤 외부적 요인이 영향을 미치는 것이 아닌가라는 의문이 제기된 것입니다. 이러한 비판에 따라 등장한 이론이 바로 종속이론입니다. 즉, 제3세계 국가들이 선진국에 경제적으로 종속되어 있는 외부적 상황 때문에 제3세계 국가 스스로 발전하려고 노력을 해도 발전이 이루어지지 않는 저발전의 상태에 있다는 것입니다. 이처럼 제3세계 국가들이 미발전의 상태가 아니라 저발전의 상태에 있다는 것은 ‘종속 이론’이 전제하고 있는 내용입니다.

ㄹ. (X) 종속 이론을 주장하는 학자들은 저발전 국가가 선진국과의 종속 관계에서 벗어나기 위해서는 스스로의 노력에 의한 발전을 해야 한다고 주장합니다. 즉, 선진국과의 관계를 단절하고 각국이 주체적인 발전 전략을 통해 자생력을 키워야 근대화를 달성할 수 있다는 것입니다.

18. (가), (나)에 나타난 문화 연구의 관점에 대한 일반적인 설명으로 옳은 것만을 <보기>에서 고른 것은?

- (가) 일본인의 위계성에 기초한 사회적 인간관계나 행위를 이해하기 위하여 그 사회적 상황이나 맥락에서 분석하였다.
- (나) 성 역할에 관한 동북아시아인들의 인식을 이해하기 위하여 한국, 중국, 일본 국민들을 대상으로 연구를 수행하였다.

- <보 기>
- ㄱ. (가)의 관점은 다른 문화에 대한 평가를 통해 자기 문화에 대한 자부심을 강화시켜준다.
 - ㄴ. (가)의 관점은 해당 문화를 향유하는 사회 구성원들의 입장에서 문화의 고유한 의미를 파악하는 것을 중시한다.
 - ㄷ. (나)의 관점은 문화 구성 요소가 상호 유기적 관계를 맺으면서 하나로서의 전체를 이룬다고 본다.
 - ㄹ. (나)의 관점은 문화의 보편성과 특수성을 전제로 하며, 자기 문화에 대한 객관적 이해를 가능하게 한다.

- ① ㄱ, ㄷ ② ㄱ, ㄹ ③ ㄴ, ㄷ ④ ㄴ, ㄹ

[정답] ④
[출제단원] 사회문화 - III. 문화와 사회
[출제영역] 문화 이해의 관점과 태도

출제 가능 지수					
난이도 지수					

(가)는 어떤 사회의 문화를 그 사회의 환경과 맥락 속에서 이해하고 평가하려는 것이므로 ‘상대론적 관점’에 해당합니다. (나)는 여러 다른 문화들을 함께 비교하면서 문화의 유사성과 차이점을 파악하고자 하는 것이므로 ‘비교론적 관점’에 해당합니다.

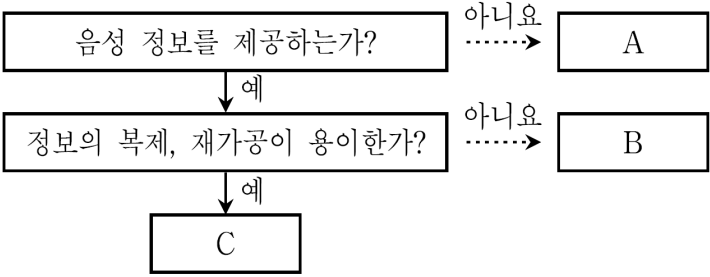
ㄱ. (X) 상대론적 관점은 각 문화의 가치를 존중하고 어떤 특정한 기준의 가치관으로 타문화를 평가해서는 안 된다는 것입니다. 따라서 상대론적 관점이 다른 문화에 대한 평가를 통해 자기 문화에 대한 자부심을 강화시켜주는 것은 아닙니다.

ㄴ. (O) 상대론적 관점은 각 문화는 그 문화의 관점에서 이해되어야 한다는 것이므로 옳은 설명입니다.

ㄷ. (X) 문화 구성 요소가 상호 유기적 관계를 맺으면서 하나로서의 전체를 이룬다는 것은 ‘총체론적 관점’에 대한 설명입니다.

ㄹ. (O) 비교론적 관점은 문화를 연구할 때 그 문화가 갖는 보편성과 특수성을 확인하기 위해서는 다른 문화를 비교하여 유사성과 차이점을 파악할 필요가 있다는 것입니다. 또한 비교론적 관점으로 문화를 이해할 때 자신의 문화에 대한 객관적, 비판적 시각을 기를 수 있습니다.

19. 다음 그림은 대중 매체의 유형 A~C를 분류한 것이다. 이에 대한 설명으로 옳은 것은? (단, A~C는 각각 라디오, 신문, 뉴미디어 중 하나이다.)



- ① A, B와 달리 C는 정보 생산자와 소비자 간 경계가 명확하다.
- ② A에 비해 C는 정보의 생산자와 소비자 간 쌍방향 의사소통이 쉽다.
- ③ A는 C에 비해 정보 확산 속도가 빠르다.
- ④ A와 달리 B는 지면에 시각적 이미지를 활용하여 정보를 제공한다.

[정답] ②
 [출제단원] 사회문화 - V. 일상생활과 사회 제도
 [출제영역] 대중 매체

출제 가능 지수					
난이도 지수					

음성 정보를 제공하는 것이 아닌 A는 ‘신문’, 정보의 복제와 재가공이 용이한 C는 ‘뉴미디어’, 나머지 B는 ‘라디오’입니다.

① (X) 뉴미디어(C)는 정보 생산자와 소비자의 구분이 명확하지 않고 쌍방향적인 정보 전달이 이루어지는 매체입니다.

② (O) 신문(A)은 정보 생산자가 일방적으로 정보를 전달하는 매체입니다(일방향적 매체). 반면, 뉴미디어(C)는 정보 생산자와 소비자 간에 쌍방향적인 정보 전달이 이루어지는 매체입니다(양방향적 매체).

③ (X) 신문(A)과 같은 인쇄 매체는 사람에 의해 물리적인 배달이 이루어져야 하므로 정보 확산 속도가 느립니다. 반면, 뉴미디어(C)는 정보를 쉽게 복제하고 전달할 수 있어 정보가 시공간을 초월하여 대량으로 빠르게 확산될 수 있습니다.

④ (X) 지면에 시각적 이미지를 활용하여 정보를 제공하는 것은 인쇄 매체인 신문(A)입니다.

20. (가), (나)는 사회·문화 현상을 보는 서로 다른 두 가지 관점을 나타낸 것이다. 이에 대한 일반적인 설명으로 옳은 것은?

(가) 부나 권력과 같은 사회적 희소 자원은 한정되어 있기 때문에 이를 둘러싸고 집단 간 대립이 발생한다. 지배 집단은 자신들에게 유리하도록 사회의 자원 배분 구조를 만든다. 사회 불평등 현상은 가정 배경이나 권력에 의해 발생한다.

(나) 사회 불평등은 보편적이고 불가피한 현상이며, 사회적 희소 자원이 차등적으로 분배되는 것은 당연하다. 사회 불평등은 사회적 희소 자원이 개인의 능력이나 사회적 기여도 등 사회적 기준에 따라 분배된 결과이다.

- ① (가)의 관점은 개인 행위에 영향을 미치는 사회 구조의 영향력을 간과했다는 비판을 받기도 한다.
- ② (가)의 관점은 사회 구성 요소가 함께 작동하여 사회 체계의 안정과 결속을 유지한다고 본다.
- ③ (나)의 관점은 사회 유지에 필요한 핵심적 가치나 규범에 관하여 사회적 합의가 존재한다는 입장을 취한다.
- ④ (나)의 관점은 주어진 상황에 대한 개인의 주관적 해석을 중시한다.

[정답] ③
 [출제단원] 사회문화 - I. 사회·문화 현상의 탐구
 [출제영역] 사회·문화 현상을 보는 관점

출제 가능 지수					
난이도 지수					

(가)는 사회 불평등 현상은 출신 배경에 의해 결정된다고 하였으므로 ‘갈등론적 관점’에 해당합니다. 반면, (나)는 사회적 희소 자원이 차등적으로 분배되는 것은 당연하다고 보고 있으므로 ‘기능론적 관점’에 해당합니다.

① (X) 개인 행위에 영향을 미치는 사회 구조의 영향력을 간과했다는 비판은 ‘미시론적 관점’에 대한 비판입니다. 갈등론적 관점은 사회 제도나 구조에 맞춰 사회·문화 현상을 이해하려는 관점으로 ‘거시론적 관점’에 해당합니다.

② (X) 사회 구성 요소가 함께 작동하여 사회 체계의 안정과 결속을 유지한다고 보는 것은 사회 유기체설을 이론적 배경으로 하는 ‘기능론적 관점(나)’에 대한 설명입니다.

③ (O) 기능론적 관점에서는 사회가 공유하는 가치나 규범은 사회 질서와 통합을 유지하기 위한 합의의 산물이라고 이해합니다. 따라서 이를 지키지 않는 것은 사회 질서를 깨뜨리는 위험한 행위라고 보는 것입니다.

④ (X) 주어진 상황에 대한 개인의 주관적 해석을 중시하는 것은 ‘상징적 상호 작용론’에 대한 설명입니다. 상징적 상호 작용론에 따르면 사회·문화 현상은 사람들의 일상적인 상호 작용의 결과로 발생한 주관적인 의미가 담긴 현상이므로 중요한 것은 객관적인 사회적 조건이 아니라, 이에 대한 개인의 ‘상황 정의’라고 이해합니다.