

# 2020년 지방직 사회 문제 및 해설(㉞책형) (2020.06.13.)

정치와 법 1~10번(10문제)  
사회문화 11~15번(5문제)  
경제 16~20번(5문제)

## 1. 국제사회의 변천 과정에 대한 설명으로 옳지 않은 것은?

- ① 1648년 베스트팔렌 조약을 기점으로 영토, 국민, 주권을 지닌 국민국가가 국제사회의 주체로 등장하였다.
- ② 국제연맹은 미국의 참여와 주도에도 불구하고 일본과 독일, 이탈리아의 탈퇴로 실질적인 효과를 거두지 못하였다.
- ③ 미국은 1947년 트루먼 독트린을 통해 공산주의 세력의 위협을 받는 국가에 군사 및 경제 원조를 제공하였다.
- ④ 1990년대 들어 냉전이 종식되면서 민족, 종교, 영토, 자원으로 인한 분쟁은 오히려 증가했다.

[정답] ②

[출제단원] 정치와 법 - VI. 국제 관계와 한반도

[출제영역] 국제 사회의 성립과 전개

| 출제 가능 지수 |  |  |  |  |  |
|----------|--|--|--|--|--|
| 난이도 지수   |  |  |  |  |  |

- ① (O) 교황이 주도하던 중세 봉건 체제가 베스트팔렌 조약(1648년)으로 붕괴되고 민족 단위의 주권 국가가 중요한 정치 단위로 등장하게 되었습니다. 이에 따라 유럽에서 주권 국가 중심의 새로운 국제 사회가 형성되었습니다.
- ② (X) 제1차 세계 대전 이후 전쟁에서 승리한 연합국을 주도로 전후 평화 유지를 위해 42개국이 참여한 '국제 연맹'이 탄생했습니다(1920년). 그러나 미국의 불참, 일본·독일·이탈리아의 탈퇴, 소련의 배제로 인해 강대국의 참여가 부족하였고, 군사적 강제력을 행사할 수도 없어 실질적인 효과를 거두지는 못하였습니다. 따라서 국제연맹에 미국의 참여가 있었다는 설명은 옳지 않습니다.
- ③ (O) 트루먼 독트린(1947년)은 제2차 세계 대전 이후 소련의 공산주의 세력이 확산되는 것을 방지하기 위해 그리스·터키에 군사·경제적 원조를 약속한 미국의 외교 정책에 관한 선언을 말합니다. 트루먼 독트린을 계기로 냉전 체제가 형성되었습니다.
- ④ (O) 몰타 회담(1989년), 서독과 동독의 통일(1990년), 소련과 동유럽 사회주의 체제의 붕괴로 인해 냉전이 종식되고, 탈냉전의 시대가 도래하게 되었습니다. 탈냉전 시대에는 이념을 중심으로 한 전 지구적 분쟁이 줄어든 반면, 인종·종교·민족 문제 등으로 인한 국지적 분쟁은 증가하고 있습니다.

## 2. 국가의 구성요소인 주권에 대한 설명으로 옳은 것만을 모두 고르면?

- ㄱ. 일반 사회 집단도 소유할 수 있다.
- ㄴ. 국가 원수로서 대통령만이 갖는 권한이다.
- ㄷ. 민주주의 국가에서는 그 소재가 국민에게 있다.
- ㄹ. 주권은 대내적으로 최고성, 대외적으로 독립성을 갖는다.

- ① ㄱ, ㄴ      ② ㄱ, ㄹ      ③ ㄴ, ㄷ      ④ ㄷ, ㄹ

[정답] ④

[출제단원] 정치와 법 - I. 민주 정치와 헌법

[출제영역] 민주 정치의 원리 - 국민 주권의 원리

| 출제 가능 지수 |  |  |  |  |  |
|----------|--|--|--|--|--|
| 난이도 지수   |  |  |  |  |  |

국가가 구성되기 위해서는 영토, 국민, 주권이 구비되어 있어야 한다는 것을 국가의 3요소론이라고 합니다.

ㄱ. (X) 주권이란 국가의 뜻을 최종적으로 결정하는 힘인 국가의 최고 의사 결정권을 말합니다. 이러한 주권이 누구에게 속하는지와 관련하여 역사적으로 군주주권론, 국가주권론, 국민주권론이 주장되었으나 현재는 국민주권론이 누구도 부인할 수 없는 이념으로 자리잡았습니다. 이에 따르면 주권은 국민 전체에게 있다고 봅니다. 따라서 일반 사회 집단이 주권을 소유할 수는 없습니다.

ㄴ. (X) 국민주권론에 따르면 주권은 국민에게 있는 것이며, 국가 원수로서의 대통령이 갖는 권한은 아닙니다.

ㄷ. (O) 절대 왕정체제에서는 주권이 군주 1인에게 속해 있었습니다. 그러나 국민이 나라의 주인이 되는 민주주의 국가에서는 주권의 소재가 국민에게 있습니다.

ㄹ. (O) 주권은 국내에 있어서는 최고의 권력이고(최고성), 국외에 대하여는 외세의 간섭 없이 국가의 운명을 스스로 결정할 수 있는 독립의 권력을 의미합니다(독립성).

### 3. 우리나라의 지방자치제도에 대한 설명으로 옳은 것은?

- ① 지역 주민들은 조례 제정 및 폐지 청구권을 가진다.
- ② 기초의회는 비례대표 의원 없이 지역구 의원만으로 구성된다.
- ③ 지방자치단체장은 지방자치단체의 예산을 심의·확정하고, 결산을 승인한다.
- ④ 교육자치를 위해 광역자치단체와 기초자치단체에 각각 교육감을 두고 있다.

[정답] ①

[출제단원] 정치와 법 - II. 민주 국가와 정부

[출제영역] 우리나라의 지방자치제도

|          |  |  |  |  |  |
|----------|--|--|--|--|--|
| 출제 가능 지수 |  |  |  |  |  |
| 난이도 지수   |  |  |  |  |  |

- ① (O) 우리나라는 주민 참여 제도로 주민 발안 제도를 도입하고 있습니다. 즉, 일정 수 이상의 주민은 조례 제정안이나 개정안, 폐지안을 지방자치단체장을 거쳐 지방의회에 발의할 수 있습니다.
- ② (X) 지방의회는 지역 주민이 직접 선출한 대표들로 구성된 주민의 대표 기관이자 지방 업무의 전반적인 사항을 심의하고 의결하는 최고 의사 결정 기관입니다. 지방의회에는 광역자치단체의 의회인 광역의회와 기초자치단체의 의회인 기초의회가 있습니다. 광역의회나 기초의회 모두 국회와 마찬가지로 지역구 의원과 비례대표 의원으로 구성되어 있습니다.
- ③ (X) 지방자치단체 예산의 심의·확정 및 결산의 승인은 지방의회의 권한입니다.
- ④ (X) 교육감은 17개 시·도별 선출을 합니다. 즉, 교육감은 광역자치단체에만 두고 있으며, 기초자치단체에 별도의 교육감을 두고 있지는 않습니다.

### 4. ㉠과 ㉡에 대한 설명으로 옳은 것은?

- 국회의원 A는 ㉠「도로교통법」 일부 개정 법률안을 대표 발의하려고 한다.
- 정부는 ㉡「형의 집행 및 수용자의 처우에 관한 법률」 일부 개정 법률안을 국회에 제출하려고 한다.

- ① ㉠의 발의자는 국회의원 5인 이상이어야 한다.
- ② ㉠이 가결되어 정부에 이송되면 대통령은 15일 이내에 국회로 환부하여 재의를 요구할 수 있다.
- ③ 정부는 ㉡을 국회에 제출하기 전에 국회 상임위원회의 심의를 거쳐야 한다.
- ④ ㉡은 국회의원 임기 만료의 경우를 제외하고는 회기 중에 의결되지 못하면 폐기된다.

[정답] ②

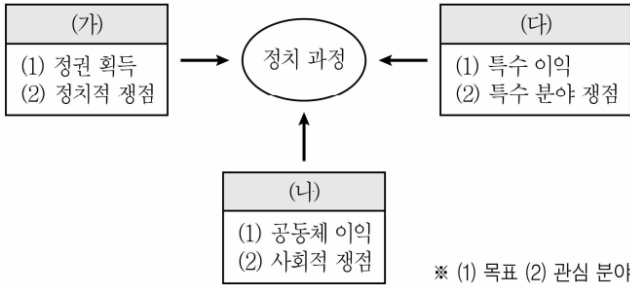
[출제단원] 정치와 법 - II. 민주 국가와 정부

[출제영역] 법률 제·개정 절차

|          |  |  |  |  |  |
|----------|--|--|--|--|--|
| 출제 가능 지수 |  |  |  |  |  |
| 난이도 지수   |  |  |  |  |  |

- ① (X) 법률안은 국회의원이나 정부가 발의합니다. 국회의원이 발의하는 경우에는 10인 이상의 찬성이 있어야 합니다.
- ② (O) 국회의 본회의에서 법률안이 재적 의원 과반수의 출석과 출석 의원 과반수의 찬성으로 의결되어 정부에 이송되면 대통령은 15일 이내에 공포해야 합니다. 그러나 법률안에 이의가 있을 경우 대통령은 정부 이송 후 15일 이내에 이의서를 붙여 국회로 환부하고 재의를 요구할 수 있습니다.
- ③ (X) 정부가 법률안을 제출하기 위해서는 국무회의의 심의를 거쳐 뿐이며, 국회 상임위원회의 심의를 거치는 것은 아닙니다. 정부가 국무회의의 심의를 거친 후 국회에 법률안을 제출하면 이후 상임위원회에 회부되어 상임위원회의 심사를 받게 되는 것입니다.
- ④ (X) 국회에 제출된 법률안 기타의 의안은 회기 중에 의결되지 못한 이유로 폐기되지 않습니다. 이를 '회기 계속의 원칙'이라고 합니다. 다만, 국회의원의 임기가 만료된 때에는 그동안 제출되었으나 의결되지 못한 모든 법안이 일괄 폐기됩니다. 즉, 법률안은 국회의원 임기 만료의 경우를 제외하고는 회기 중에 의결되지 못한 이유로 폐기되지 않습니다.

5. 그림의 (가) ~ (다)에 대한 설명으로 옳지 않은 것은? (단, (가) ~ (다)는 각각 정당, 시민단체, 이익집단 중 하나이다)



- ① (가)는 정치적 총원과 여론 형성 및 조직화 기능을 수행한다.  
 ② (나)는 시민들에 의해 자발적으로 구성되는 집단이다.  
 ③ (다)는 사회 전체의 보편적 이익과 충돌하는 활동을 할 우려가 있다.  
 ④ (가)와 (다)는 정치적 책임을 진다는 공통점이 있다.

[정답] ④

[출제단원] 정치와 법 - III. 정치 과정과 참여

[출제영역] 정당 vs 이익집단 vs 시민단체

|          |  |  |  |  |  |
|----------|--|--|--|--|--|
| 출제 가능 지수 |  |  |  |  |  |
| 난이도 지수   |  |  |  |  |  |

(가)는 정권 획득을 목표로 하는 '정당', (나)는 공동체 이익을 목표로 하는 '시민단체', (다)는 특수 이익을 목표로 하는 '이익집단'입니다.

- ① (가) 정당(가)은 선거에 후보자를 추천하고 국민의 대표자를 배출하는 기능을 합니다(정치적 총원 기능). 또한 여론을 형성·조직하여 정부에 전달하는 역할도 합니다.  
 ② (나) 시민단체(나)는 사회 전체의 공익 실현을 목적으로 시민들이 자발적으로 참여하여 만든 단체입니다.  
 ③ (나) 이익집단(다)은 구성원들이 집단의 특수한 목표와 이익을 공공 정책의 결정과 집행에 반영되도록 정치 과정에서 이익을 표출하고 압력을 행사하는 정치적 결사체입니다. 따라서 집단의 특수한 목표와 이익이 사회 전체의 보편적 이익과 충돌할 우려가 있으며, 이 경우 사회적 혼란을 야기하게 됩니다.  
 ④ (X) 정치적 책임을 진다는 것은 정치권력을 스스로 내놓거나 국민에 의해 교체당하는 것을 의미합니다. 국민은 선거에서 집권 여당을 교체함으로써 정당(가)에 대해 정치적 책임을 물을 수 있습니다. 반면, 시민단체(나)와 이익집단(다)은 정치권력 획득을 목적으로 하지 않으므로 정치적 책임을 지지 않습니다. 즉, 정치적 책임을 진다는 것은 정당(가)만의 특징입니다.

6. 연령기준과 관련된 법 규정으로 옳지 않은 것은?

- ① 「민법」은 '만 18세가 된 사람은 혼인할 수 있다'고 규정하고 있다.  
 ② 헌법은 '대통령으로 선거될 수 있는 자는 선거일 현재 25세에 달하여야 한다'고 규정하고 있다.  
 ③ 「민법」은 '사람은 19세로 성년에 이르게 된다'고 규정하고 있다.  
 ④ 「공직선거법」은 '18세 이상의 국민은 대통령 및 국회의원의 선거권이 있다'고 규정하고 있다.

[정답] ②

[출제단원] 정치와 법 - III. 정치 과정과 참여, IV. 개인 생활과 법

[출제영역] 혼인적령, 선거권과 피선거권, 성년과 미성년

|          |  |  |  |  |  |
|----------|--|--|--|--|--|
| 출제 가능 지수 |  |  |  |  |  |
| 난이도 지수   |  |  |  |  |  |

- ① (O) 민법은 제807조에서 '만 18세가 된 사람은 혼인할 수 있다.'고 규정하고 있습니다.  
 ② (X) 헌법 제67조 제4항은 '대통령으로 선거될 수 있는 자는 국회의원의 피선거권이 있고 선거일 현재 40세에 달하여야 한다.'고 규정하고 있습니다. 이와 비교하여 국회의원의 피선거권은 25세 이상의 국민에게 인정됩니다(공직선거법 제16조 제2항).  
 ③ (O) 민법은 제4조에서 '사람은 19세로 성년에 이르게 된다.'고 규정하고 있습니다. 참고로 민법 제4조의 경우 혼인적령에 대해 규정하고 있는 제807조와 달리 '만'이라고 표현하고 있지 않지만 법률에서의 모든 나이는 원칙적으로 '만 나이'를 기준으로 합니다.  
 ④ (O) 공직선거법은 제15조 제1항에서 '18세 이상의 국민은 대통령 및 국회의원의 선거권이 있다.'고 규정하고 있습니다. 기존에는 19세 이상의 국민에게 선거권이 인정되었으나, 2020. 1. 14. 공직선거법 개정시 선거권자의 연령을 18세 이상으로 변경하였습니다.

7. 상점 절도를 저지른 갑~정에 대한 판단으로 옳은 것만을 <보기>에서 모두 고르면?

| 구분               | 갑   | 을   | 병   | 정 |
|------------------|-----|-----|-----|---|
| 10세 이상의 '소년'인가요? | 아니요 | 아니요 | 예   | 예 |
| 기소할 수 있는 연령인가요?  | 예   | 아니요 | 아니요 | 예 |

<보 기>

- ㄱ. 갑과 정은 모두 선도조건부 기소유예 처분을 받을 수 있다.  
 ㄴ. 정의 연령은 을, 병보다 높지만 갑보다는 낮다.  
 ㄷ. 을, 병은 모두 형사 미성년자이다.  
 ㄹ. 검사는 정에 대한 피의사건 수사 결과, 보호처분에 해당하는 사유가 있다고 인정한 경우에는 사건을 관할 법원 소년부에 송치하여야 한다.

- ① ㄱ, ㄷ                      ② ㄴ, ㄹ                      ③ ㄱ, ㄴ, ㄷ                      ④ ㄴ, ㄷ, ㄹ

[정답] ④

[출제단원] 정치와 법 - V. 사회생활과 법

[출제영역] 미성년자의 형사상 보호

|          |  |  |  |  |  |
|----------|--|--|--|--|--|
| 출제 가능 지수 |  |  |  |  |  |
| 난이도 지수   |  |  |  |  |  |

소년법상 '소년'이란 19세 미만인 자를 말합니다(제2조). 또한 검사의 공소제기(기소)는 범죄가 성립한 경우에 할 수 있으므로 기소할 수 있는 연령은 14세 이상을 말합니다.

- 갑 : 10세 이상~19세 미만은 아니지만 14세 이상이라는 조건을 충족해야 하므로 갑은 19세 이상의 성인입니다.
- 을 : 10세 이상~19세 미만이 아닐 뿐만 아니라 14세 이상도 아니라는 조건을 충족해야 하므로 을은 10세 미만입니다.
- 병 : 10세 이상~19세 미만이지만, 14세 이상은 아니라는 조건을 충족해야 하므로 병은 10세 이상~14세 미만입니다. 또한 상점 절도를 저질렀으므로 초범소년에 해당합니다.
- 정 : 10세 이상~19세 미만일 뿐만 아니라 14세 이상이라는 조건을 충족해야 하므로 정은 14세 이상~19세 미만입니다. 또한 상점 절도를 저질렀으므로 범죄소년에 해당합니다.

ㄱ. (X) 검사는 '범죄소년'에 대하여 선도를 받는 것을 조건으로 공소를 제기하지 않을 수 있는데, 이를 '선도 조건부 기소유예'라고 합니다. 그런데 정은 범죄소년에 해당하므로 선도 조건부 기소유예 처분을 받을 수 있지만, 갑은 19세 이상의 성인이므로 선도 조건부 기소유예 처분을 받을 수 없습니다.

ㄴ. (O) 정은 14세 이상~19세 미만이므로 을(10세 미만)과 병(10세 이상~14세 미만)보다 연령이 높지만, 갑(19세 이상)보다는 낮습니다.

ㄷ. (O) 형사 미성년자는 14세가 되지 않은 자를 말합니다. 따라서 을(10세 미만)과 병(10세 이상~14세 미만)은 형사 미성년자에 해당합니다.

ㄹ. (O) 범죄소년은 형사법원에서 형벌을 받을 수도 있지만 소년법원(소년부)에서 보호처분을 받을 수도 있습니다. 소년법 제49조 제1항은 '검사는 소년에 대한 피의사건을 수사한 결과 보호처분에 해당하는 사유가 있다고 인정한 경우에는 사건을 관할 소년부에 송치하여야 한다.'고 규정하고 있습니다.

8. 국회 인사청문회의 청문대상 공직이 아닌 것은?

- ① 대법원장  
 ② 감사원 감사위원  
 ③ 국무총리  
 ④ 대법관

[정답] ②

[출제단원] 정치와 법 - II. 민주 국가와 정부

[출제영역] 우리나라의 국가 기관

|          |  |  |  |  |  |
|----------|--|--|--|--|--|
| 출제 가능 지수 |  |  |  |  |  |
| 난이도 지수   |  |  |  |  |  |

① (O) 대법원장은 국회의 동의를 얻어 대통령이 임명합니다. 이때 국회의 임명동의를 위해 인사청문회를 실시합니다.

② (X) 감사원장은 국회의 동의를 얻어 대통령이 임명합니다. 이때 감사원장에 대한 국회의 임명동의를 위해 인사청문회를 실시합니다. 반면, 감사위원은 감사원장의 제청으로 대통령이 임명할 뿐이며 국회의 동의를 받지 않으며, 국회 인사청문회의 대상도 아닙니다.

③ (O) 국무총리는 국회의 동의를 얻어 대통령이 임명합니다. 이때 국회의 임명동의를 위해 인사청문회를 실시합니다.

④ (O) 대법관은 대법원장의 제청으로 국회의 동의를 얻어 대통령이 임명합니다. 이때 국회의 임명동의를 위해 인사청문회를 실시합니다. 감사원의 경우 감사원장만 인사청문회를 실시할 뿐이며 감사위원은 인사청문회의 대상이 아니지만, 대법원의 경우 대법원장뿐만 아니라 대법관도 인사청문회를 실시합니다.

9. 갑에 대한 법적 조언으로 옳은 것은?

만 18세인 갑은 친권자인 양부모의 동의를 얻어 을이 사장인 주유소에서 하루 8시간씩 근로를 하게 되었다. 사장인 을은 근무 기간이 3개월이 안 될 경우 유급 휴일이 인정되지 않는다고 하였고, 갑은 3개월간 쉬는 날 없이 성실하게 일하였다. 그 동안 학업을 병행하느라 월급에 대해 신경을 쓰지 못하고 있었는데 알고 보니 양부인 병이 근로 계약서를 작성하여 갑의 임금이 병에게 지급되고 있었다.

- ① 갑의 근로 시간은 1일 7시간을 초과할 수 없다.
- ② 사용자는 근로자에게 1주에 평균 1회 이상의 유급 휴일을 보장하여야 한다.
- ③ 민사상 미성년자이기 때문에 친권자인 양부모가 대리로 계약을 체결하는 것은 물론, 갑의 임금을 대리 지급받는 것도 가능하다.
- ④ 사용자와의 합의에 따라 휴식 시간은 1일 1시간 보장되고, 근로 시간은 1일 30분 한도로 연장 가능하다.

[정답] ②  
[출제단원] 정치와 법 - V. 사회생활과 법  
[출제영역] 근로기준법상 근로자의 보호

|          |  |  |  |  |  |
|----------|--|--|--|--|--|
| 출제 가능 지수 |  |  |  |  |  |
| 난이도 지수   |  |  |  |  |  |

- ① (X) 근로기준법에서는 18세 미만인 자를 연소자로 하여 근로시간이나 휴일 및 야간 근로의 제한 등에서 특별히 보호하고 있습니다. 그런데 갑은 만18세라고 하였으므로 근로기준법상 연소자에 해당하지 않습니다. 따라서 근로기준법상 일반적인 규정이 그대로 적용됩니다. 근로기준법에서는 '1일의 근로시간은 휴게시간을 제외하고 8시간을 초과할 수 없다.'고 규정하고 있습니다(제50조 제2항). 따라서 갑의 근로시간은 1일 7시간을 초과할 수 있습니다.
- ② (O) 근로기준법에서는 '사용자는 근로자에게 1주에 평균 1회 이상의 유급휴일을 보장하여야 한다.'고 하여 유급휴일을 보장하고 있습니다(제55조 제1항).
- ③ (X) 근로기준법에서 '친권자나 후견인은 미성년자의 근로계약을 대리할 수 없다.'고 규정하고 있습니다(제67조 제1항). 갑은 만18세이므로 민사상 미성년자입니다. 따라서 친권자인 양부모가 갑의 근로계약을 대리할 수는 없습니다. 다만, 갑은 미성년자이므로 근로계약을 체결하기 위해서는 법정대리인의 동의는 필요합니다. 즉, 갑은 양부모의 동의를 얻어 직접 근로계약을 체결해야 합니다. 또한 근로기준법은 '미성년자는 독자적으로 임금을 청구할 수 있다.'고 규정하고 있을 뿐만 아니라(제68조), '임금은 통화로 직접 근로자에게 그 전액을 지급하여야 한다.'고 규정하고 있으므로(제43조 제1항) 갑의 양부모가 갑의 임금을 대리 지급받는 것도 불가능합니다.
- ④ (X) 근로기준법에서는 '사용자는 근로시간이 4시간인 경우에는 30분 이상, 8시간인 경우에는 1시간 이상의 휴게시간을 근로시간 도중에 주어야 한다.'고 규정하고 있습니다(제54조 제1항). 따라서 하루 8시간 근로를 하는 갑은 근로기준법에 따라 1일 1시간 이상의 휴식시간이 보장되는 것이지, 사용자와의 합의에 따라 1일 1시간의 휴식시간이 보장되는 것은 아닙니다. 또한 근로기준법에서는 '당사자 간에 합의하면 1주 간에 12시간을 한도로 제50조의 근로시간(1주 40시간)을 연장할 수 있다.'고 규정하고 있습니다. 반면, 1일에 몇 시간을 연장할 수 있는지에 대한 규정은 없습니다. 참고로 연소자(15세 이상~18세 미만)의 경우에는 '당사자 사이의 합의에 따라 1일에 1시간, 1주에 5시간을 한도로 연장할 수 있다.'고 하여 1일에 연장할 수 있는 시간도 제한하고 있습니다(제69조).

10. 민법의 기본원리인 (가)~(다)에 대한 설명으로 옳은 것만을 <보기>에서 모두 고른 것은?

| 구분  | 관련 내용  |
|-----|--|
| (가) | 개인의 재산권은 공공복리에 적합하도록 행사되어야 한다.                         |
| (나) | 개인은 자유로운 의사에 기초하여 타인과 법률관계를 형성할 수 있다.                  |
| (다) | 가해자는 직접적인 고의나 과실이 없는 경우에도 일정한 요건에 따라 손해 배상 책임을 질 수 있다. |

<보 기>  
ㄱ. (가)는 개인 소유의 재산에 대해 사적 지배를 인정하지 않는다.  
ㄴ. (나)에 의해 사회적 이익에 반하거나 불공정한 계약은 법적 효력이 없다.  
ㄷ. (다)는 제조물 책임에 대해서 적용되는 원칙이다.  
ㄹ. (가)와 (다)는 개인이나 기업의 사회적 책임을 강조한다.

- ① ㄱ, ㄴ                      ② ㄱ, ㄷ                      ③ ㄴ, ㄹ                      ④ ㄷ, ㄹ

[정답] ④  
[출제단원] 정치와 법 - IV. 개인 생활과 법  
[출제영역] 민법의 기본 원리

|          |  |  |  |  |  |
|----------|--|--|--|--|--|
| 출제 가능 지수 |  |  |  |  |  |
| 난이도 지수   |  |  |  |  |  |

- (가)는 현대 민법의 기본 원리 중 '소유권 공공의 원칙'입니다. (나)는 근대 민법의 기본 원리 중 '사적 자치의 원칙(계약 자유의 원칙)'입니다. (다)는 현대 민법의 기본 원리 중 '무과실 책임의 원칙'입니다.
- ㄱ. (X) 소유권 공공의 원칙은 소유권 행사의 범위를 공공복리를 해치지 않는 범위 내로 제한하는 원칙일 뿐이지 재산에 대한 사적 지배를 인정하지 않는 것은 아닙니다.
- ㄴ. (X) 사적 자치의 원칙은 사적인 영역에 관해서는 국가의 간섭 없이 개인이 자유롭게 법률관계를 형성할 수 있다는 원칙입니다. 반면, 사회적 이익에 반하거나 불공정한 계약은 법적 효력이 없다는 것은 현대 민법의 원리 중 '계약 공정의 원칙'입니다. 근대 민법의 기본 원리인 '사적 자치의 원칙'이 자본주의 발달 과정에서 문제가 발생함에 따라 현대 민법의 기본 원리인 '계약 공정의 원칙'으로 수정·보완된 것입니다.
- ㄷ. (O) 제조물 책임은 제조물의 결함으로 발생한 손해에 관하여 제조업자의 고의 또는 과실을 요하지 않는 무과실 책임입니다. 따라서 현대 민법의 기본 원리 중 '무과실 책임의 원칙'이 적용되는 예에 해당합니다.
- ㄹ. (O) 현대 민법의 기본 원리 중 '소유권 공공의 원칙'은 무제한적인 소유권 행사를 허용하지 않고 그 범위를 공공복리를 해치지 않는 범위 내로 제한하는 것입니다. 또한 '무과실 책임의 원칙'은 환경오염 책임이나 제조물 책임 등 일정 영역에서 피해자를 두텁게 보호하기 위하여 예외적으로 인정되는 원칙입니다. 따라서 두 원칙 모두 개인이나 기업의 사회적 책임을 강조하는 원칙이라고 할 수 있습니다.

11. 다음은 연구 단계를 순서 없이 나열한 것이다. 이에 대한 설명으로 옳은 것은?

- (가) 수집한 자료를 통계 처리하여 변수 간의 인과관계 분석  
(나) 자기주도학습이 학업 성취도에 미치는 영향을 연구주제로 선정  
(다) 자기주도학습 태도를 지닌 고등학생일수록 학업성취도가 높을 것이라는 잠정적 결론 도출  
(라) ○○시 △△고교 학생 1,500명을 대상으로 연구주제에 대한 설문조사 실시  
(마) 학업 성취도는 1학과 2학기의 지필평가 평균 점수를 비교하여 측정하기로 결정

- ① (가) 단계와 (다) 단계에서는 연구자의 가치 중립적 태도가 요구된다.  
② (가) 단계에서는 (다) 단계와 달리 연구자의 직관적 통찰이 필요하다.  
③ (나) 단계와 (마) 단계에서는 연구자의 가치가 개입된다.  
④ 연구는 (나)→(라)→(가)→(마)→(다)의 순서로 진행되어야 한다.

[정답] ③

[출제단원] 사회·문화 - Ⅰ. 사회·문화 현상의 탐구

[출제영역] 사회·문화 현상의 연구 과정(실증적 연구)

| 출제 가능 지수 |  |  |  |  |  |
|----------|--|--|--|--|--|
| 난이도 지수   |  |  |  |  |  |

(가)는 자료 분석 및 통계 처리, (나)는 문제 제기, (다)는 가설 설정, (라)는 자료 수집, (마)는 연구 설계에 해당합니다.

- ① (X) 자료 분석 및 통계 처리 단계(가)와 달리 가설 설정 단계(다)에서는 연구자의 가치가 개입됩니다.  
② (X) 연구자의 직관적 통찰을 통해 사회 현상의 의미를 이해하는 것을 목적으로 하는 것은 해석적 연구방법입니다. 그런데 제시문에 나온 연구과정에서 가설 설정 단계가 있는 것으로 봐서 실증적 연구방법에 해당합니다. 실증적 연구방법은 계량화된 자료를 통해 사회 현상의 법칙을 발견하는 것을 목적으로 합니다. 따라서 (가)와 (다) 둘 다 연구자의 직관적 통찰을 필요로 하는 단계가 아닙니다.  
③ (O) 문제 제기 단계(나)와 연구 설계 단계(마)는 둘 다 연구자의 가치가 개입되는 단계입니다.  
④ (X) 연구는 문제 제기(나)→가설 설정(다)→연구 설계(마)→자료 수집(라)→자료 분석 및 통계 처리(가)의 순으로 진행되어야 합니다.

12. 다음에 제시된 A ~ C에 대한 설명으로 옳은 것은?

- A. 회사 내 노동조합  
B. 직장 내 등산 동호회  
C. 환경 정책을 감시하는 시민단체

- ① A는 자발적 결사체이자 비공식 조직이다.  
② B는 공식 조직으로 2차 집단의 성격이 강하다.  
③ C는 A와 달리 자연 발생적으로 형성된 집단이다.  
④ A ~ C는 모두 사회의 다원화에 기여하는 이익 사회이다.

[정답] ④

[출제단원] 사회·문화 - Ⅱ. 개인과 사회 구조

[출제영역] 사회 집단과 사회 조직(자발적 결사체)

| 출제 가능 지수 |  |  |  |  |  |
|----------|--|--|--|--|--|
| 난이도 지수   |  |  |  |  |  |

- ① (X) 노동조합의 경우 회사라는 공식 조직 안에서 노동자들이 자발적으로 결성했기 때문에 비공식 조직으로 오해하기 쉽습니다. 그러나 회사 내 노동조합은 공식 조직입니다. 공식 조직의 구성원이 취미와 관심사를 공유하기 위해 만들면 비공식 조직입니다. 그러나 노동조합은 지위와 역할의 구분, 목표와 경계의 명확, 엄격한 규범에 의한 통제라는 공식 조직의 요건을 가지고 있습니다. 따라서 노동조합은 공식 조직 안에 있는 공식 조직입니다. 이거 정말 중요한 내용입니다. 꼭 기억하셔야 합니다.  
② (X) 직장 내 등산 동호회는 직장이라는 공식 조직 내에서 취미와 관심사를 공유하기 위해 만든 비공식 조직입니다. 또한 1차 집단의 성격이 강하게 나타납니다.  
③ (X) '자연 발생적으로 형성된 집단'은 공동 사회를 의미합니다. 회사 내 노동조합(A)과 시민단체(C)는 둘 다 자발적 결사체입니다. 자발적 결사체는 이익 사회에 해당합니다.  
④ (O) 노동조합(A), 등산 동호회(B), 시민단체(C)는 모두 자발적 결사체입니다. 자발적 결사체는 사회의 다원화에 기여하며, 사회 집단 중 이익 사회로 분류됩니다.

13. 자료 수집 방법 (가) ~ (다)에 대한 설명으로 옳은 것은?

| 자료 수집 방법 | 특징   |
|----------|--|
| (가)      | - 비교적 짧은 시간에 다수의 대상으로부터 자료를 얻는 데 용이함<br>- 통계처리가 용이하며 비교 분석 연구에 적합함 |
| (나)      | - 문맹자에게도 사용할 수 있음<br>- 응답자만이 알고 있는 심층적인 정보를 얻을 수 있음                |
| (다)      | - 의사소통이 어려운 집단을 조사할 때 유용함<br>- 생동감 있고 깊이 있는 정보를 직접 파악할 수 있음        |

- ① (가)는 양적 연구에서 주로 활용되는 자료 수집 방법이다.  
 ② (나)는 시간과 비용 측면에서 효율적이라는 장점이 있다.  
 ③ (다)는 인위적인 상황을 만들어 변수 간의 인과관계를 파악하는 방법이다.  
 ④ (가), (나)와 달리 (다)는 질적 연구에서 주로 활용되는 자료 수집 방법이다.

[정답] ①

[출제단원] 사회·문화 - I. 사회·문화 현상의 탐구

[출제영역] 자료 수집 방법(질문지, 면접, 참여관찰법)

|          |  |  |  |  |  |
|----------|--|--|--|--|--|
| 출제 가능 지수 |  |  |  |  |  |
| 난이도 지수   |  |  |  |  |  |

- (가)는 질문지법, (나)는 면접법, (다)는 참여관찰법에 해당합니다.  
 ① (O) 질문지법(가)은 수치화 된 정보를 얻을 수 있어 양적(실증적) 연구의 자료 수집 방법으로 활용됩니다.  
 ② (X) 면접법(나)은 표본 선정이 어렵고 한 명의 조사 대상자를 상대로 깊이 있는 대화를 나누는 자료 수집 방법이기 때문에 시간과 비용이 많이 든다는 단점이 있습니다.  
 ③ (X) 참여관찰법(다)은 사회 현상에 개입하지 않고 있는 그대로 관찰하고 기록하는 자료 수집 방법입니다. 인위적인 상황을 만들어 변수 간의 인과관계를 파악하는 것은 실험법입니다.  
 ④ (X) 질문지법(가)은 양적(실증적) 연구, 면접법(나)과 참여관찰법(다)은 질적(해석적) 연구의 자료 수집 방법으로 활용됩니다.

14. 사회화를 바라보는 갑과 을의 관점에 대한 설명으로 옳은 것은?

|   |
|---|
| <p>갑 : 개인은 사회적 환경 속의 다른 대상자들처럼 자신을 대상으로 보는 과정을 통하여 자아를 형성해 간다. 또한 개인이 자아 관념을 형성하는 과정에서는 감정적으로 강한 애착을 느낄 수 있는 가족, 또래 집단 등이 중요하다.</p> <p>을 : 어린아이들이 게임을 하는 과정에서 각기 다른 사람들의 역할을 배우고, 게임의 규칙에 따라 주어진 역할을 모방함으로써 사회 전반적으로 받아들여지는 태도와 역할을 배우게 된다.</p> |
|---|

- ① 한 사회의 보편적인 가치나 규범은 사회의 지배 집단에 의하여 규정된다.  
 ② 사회화를 거시적 관점에서 바라보며, 사회화는 사회구조의 안정과 질서를 유지하는 데 반드시 필요한 과정이다.  
 ③ 사회화는 언어나 몸짓, 기호와 같은 상징을 사용하여 다른 사회 구성원과 상호 작용하는 과정을 통하여 이루어진다.  
 ④ 사회화는 기존의 불평등한 사회구조를 정당화하려는 것이며, 기득권층에 유리한 가치와 행동을 학습시키는 과정이다.

[정답] ③

[출제단원] 사회·문화 - II. 개인과 사회 구조

[출제영역] 사회화를 바라보는 관점

|          |  |  |  |  |  |
|----------|--|--|--|--|--|
| 출제 가능 지수 |  |  |  |  |  |
| 난이도 지수   |  |  |  |  |  |

- 갑과 을은 상징적 상호 작용론적 관점에서 사회화를 설명하고 있습니다.  
 ① (X) 한 사회의 보편적인 가치나 규범이 지배 집단에 의해 규정되고 강제된다고 보는 것은 사회화를 바라보는 갈등론적 관점입니다.  
 ② (X) 사회화를 거시적 관점에서 바라보며, 사회화를 사회구조의 안정과 질서를 유지하는 데 반드시 필요한 과정으로 이해하는 것은 기능론적 관점입니다. 상징적 상호 작용론적 관점은 사회화를 미시적으로 이해하는 관점입니다.  
 ③ (O) 사회화가 다른 사회 구성원과 상호 작용하는 과정에 이루어진다고 보는 것은 상징적 상호 작용론적 관점입니다.  
 ④ (X) 사회화가 기존의 불평등한 사회구조를 정당화하며, 기득권층에 유리한 가치와 행동을 주입하는 과정이라고 보는 것은 사회화를 바라보는 갈등론적 관점입니다.



15. 다음 표는 부모 세대와 자녀 세대의 계층적 위치를 나타내고 있다. 이에 대한 설명으로 옳은 것은?

(단위 : %)

| 구분     |   | 부모의 계층 |    |    |     |
|--------|---|--------|----|----|-----|
|        |   | 상      | 중  | 하  | 계   |
| 자녀의 계층 | 상 | 2      | 8  | 10 | 20  |
|        | 중 | 6      | 14 | 40 | 60  |
|        | 하 | 2      | 8  | 10 | 20  |
|        | 계 | 10     | 30 | 60 | 100 |

- ① 자녀 세대의 계층 구조는 피라미드형이다.
- ② 부모 세대 상층의 경우 세대 간 이동은 일어나지 않았다.
- ③ 자녀 세대보다 부모 세대에서 세대 내 이동이 활발하게 일어났다.
- ④ 부모가 중층인 경우 세대 간 상승 이동 비율과 세대 간 하강 이동 비율은 같다.

[정답] ④

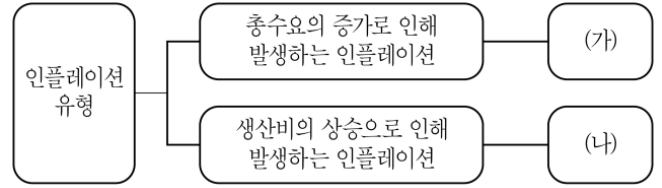
[출제단원] 사회·문화 - IV. 사회 계층과 불평등

[출제영역] 사회 계층 구조 관련 자료분석형 문제

|          |  |  |  |  |  |
|----------|--|--|--|--|--|
| 출제 가능 지수 |  |  |  |  |  |
| 난이도 지수   |  |  |  |  |  |

- ① (X) 자녀 세대는 중층의 비율(60%)이 가장 높은 다이아몬드형 계층 구조입니다.
- ② (X) 부모 세대가 상층 경우가 전체에서 10%입니다. 이 중 2%만이 계층 대물림을 했고, 나머지 8%는 중층(6%)과 하층(2%)으로 세대 간 이동을 하였습니다.
- ③ (X) 주어진 자료는 세대 간 이동에 대한 정보가 제시되어 있을 뿐입니다. 세대 내 이동 여부를 파악할 수 있는 내용은 없습니다.
- ④ (O) 부모가 중층인 경우는 전체에서 30%입니다. 이 중 8%가 상층으로 세대 간 상승 이동을 했고, 또 8%가 하층으로 세대 간 하강 이동을 했습니다. 따라서 부모가 중층인 경우 세대 간 상승 이동 비율과 하강 이동 비율은 같습니다.

16. 그림 (가)와 (나)의 인플레이션 유형에 대한 설명으로 옳지 않은 것은? (단, 우하향하는 총수요곡선, 우상향하는 총공급곡선을 가정한다)



- ① (가)는 물가 상승과 경기 침체가 함께 발생하는 스테그플레이션(stagflation)을 발생시킬 수 있다.
- ② (나)의 원인은 임금 상승, 임대료 상승, 원자재 가격 상승 등이다.
- ③ (가)는 실질 GDP의 증가, (나)는 실질 GDP의 감소를 가져온다.
- ④ (가)는 총수요곡선의 우측 이동, (나)는 총공급곡선의 좌측 이동으로 나타난다.

[정답] ①

[출제단원] 경제 - III. 국가와 경제 활동

[출제영역] 인플레이션의 유형

|          |  |  |  |  |  |
|----------|--|--|--|--|--|
| 출제 가능 지수 |  |  |  |  |  |
| 난이도 지수   |  |  |  |  |  |

총수요의 증가로 인해 발생하는 인플레이션인 (가)는 수요 견인 인플레이션입니다. 생산비의 상승으로 인한 총공급의 감소로 인해 발생하는 인플레이션인 (나)는 비용 인상 인플레이션입니다.

- ① (X) 수요 견인 인플레이션(가)이 발생하면 물가는 상승하지만 경기가 활성화됩니다. 물가 상승과 경기 침체가 동시에 나타나는 것은 비용 인상 인플레이션(나)입니다.
- ② (O) 임금, 임대료, 원자재 가격의 상승은 생산자의 생산 비용을 증대시켜 총공급을 감소시킵니다. 이는 물가 상승과 경기 침체가 동시에 나타나는 비용 인상 인플레이션을 유발합니다.
- ③ (O) 총수요의 증가는 국민 경제 균형점을 우상향으로 이동시킵니다. 이로 인해 실질 GDP가 증가합니다. 생산비 상승으로 인한 총공급의 감소는 국민 경제 균형점을 좌상향으로 이동 시킵니다. 이로 인해 실질 GDP가 감소합니다.
- ④ (O) 총수요의 증가는 총수요곡선을 우측으로 이동시킵니다. 생산비 상승은 총공급을 감소시켜 총공급 곡선을 좌측으로 이동시킵니다.



17. 다음은 외부 효과가 존재하는 경우에 대한 설명이다. 각 빈칸에 적절한 내용으로 옳은 것은? (단, 우하향하는 수요곡선, 우상향하는 공급곡선을 가정한다)

| 구분  | 생산 측면의 (가)  | 소비 측면의 (나)  |
|-----|---|---|
| 영향  | 사회적 최적 가격보다 시장 균형 가격이 낮다.<br>사회적 최적 거래량에서 사회적 비용이 사적 비용보다 (㉠) | 사회적 최적 가격보다 시장 균형 가격이 낮다.<br>사회적 최적 거래량에서 사회적 편익이 사적 편익보다 (㉡) |
| 문제점 | 사회적 최적 수준보다 (㉢)   | 사회적 최적 수준보다 (㉣)   |
| 개선책 | (㉤)   | (㉥)   |

- ① (가)는 '외부 경제', (나)는 '외부 불경제'이다.  
 ② ㉠과 ㉡ 모두 '작다'이다.  
 ③ ㉢은 '과다 생산', ㉣은 '과소 소비'이다.  
 ④ ㉤은 '소비자에게 보조금 지급', ㉥은 '소비자에게 세금 부과'이다.

[정답] ③

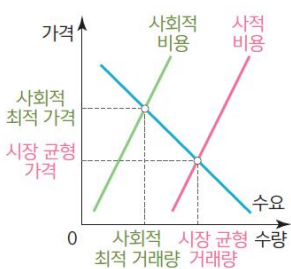
[출제단원] 경제 - II. 시장과 경제 활동

[출제영역] 외부 효과

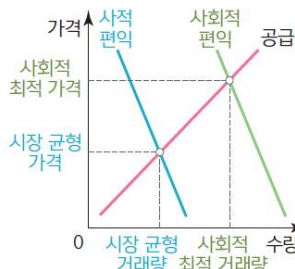
| 출제 가능 지수 |  |  |  |  |  |
|----------|--|--|--|--|--|
| 난이도 지수   |  |  |  |  |  |

생산 측면에서 외부 효과가 나타나는데 사회적 최적 가격보다 시장 균형 가격이 낮은 것은 생산의 외부 불경제입니다. 소비 측면에서 외부 효과가 나타나는데 사회적 최적 가격보다 시장 균형 가격이 낮은 경우는 소비의 외부 경제입니다.

<생산의 외부 불경제 그래프>

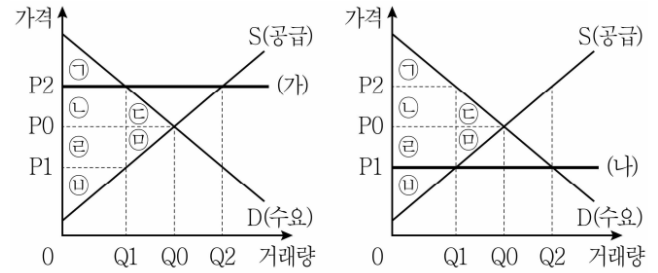


<소비의 외부 경제 그래프>



- ① (X) (가)는 생산의 외부 불경제, (나)는 소비의 외부 경제입니다.  
 ② (X) 생산의 외부 불경제의 경우 사회적 비용이 사적 비용보다 큼니다. 소비의 외부 경제의 경우 사회적 편익이 사적 편익보다 큼니다. 따라서 ㉠과 ㉡은 모두 '크다'가 들어가는 것입니다.  
 ③ (O) 외부 불경제는 많아서 문제(과잉 생산 및 소비)인 경우이고, 외부 경제는 적어서 문제(과소 생산 및 소비)인 경우입니다. 따라서 ㉢은 '과다 생산', ㉣은 '과소 소비'가 들어가는 것이 적절합니다.  
 ④ (X) 외부 불경제가 나타나는 상황에서 소비자에게 보조금을 지급해서 소비를 촉진하는 것은 적절하지 않습니다. 또한 외부 경제가 나타나는 경우 소비자에게 세금을 부과해서 소비를 위축시키는 것도 적절하지 않습니다. 생산의 외부 불경제의 경우 생산자에게 세금을 부과해서 공급을 감소시켜야 하고, 소비의 외부 경제의 경우 소비자에게 보조금을 지급해서 소비를 촉진하는 것이 적절합니다.

18. 정부가 시장에 대해 두 가지 가격규제 정책 (가)와 (나)를 시행할 때 나타나는 변화에 대한 설명으로 옳은 것은?



- ① (가)를 시행하면 Q1 ~ Q2만큼 초과수요가 발생하고, 사회적 잉여 ㉠ + ㉡이 감소한다.  
 ② (나)를 시행하면 생산자 잉여였던 ㉢ + ㉣은 소비자 잉여로 바뀐다.  
 ③ (가)와 (나), 두 경우 모두 사회적 잉여 ㉠ + ㉡이 감소한다.  
 ④ (가)를 시행하면 소비자 잉여가 증가하고, (나)를 시행하면 생산자 잉여가 증가한다.

[정답] ③

[출제단원] 경제 - II. 시장과 경제 활동

[출제영역] 가격규제 정책

| 출제 가능 지수 |  |  |  |  |  |
|----------|--|--|--|--|--|
| 난이도 지수   |  |  |  |  |  |

균형 가격보다 높은 수준에서 가격 규제를 실시하는 것(가)은 최저가격제입니다. 균형 가격보다 낮은 수준에서 가격 규제를 실시하는 것은 최고가격제입니다.

- ① (X) 최저가격제(가)를 시행하면 초과 수요가 아니라 초과 공급이 발생합니다. 사회적 잉여가 ㉠+㉡만큼 감소하는 것은 맞습니다.  
 ② (X) (나)를 시행하면 생산자 잉여였던 ㉢+㉣ 중에서 ㉢은 소비자 잉여로 바뀌고, ㉣은 소실됩니다.  
 ③ (O) (가)와 (나) 둘 다 가격 규제로 인해 거래량이 Q1으로 감소하기 때문에 Q1의 우측에 있는 ㉢, ㉣의 잉여는 소실됩니다.  
 ④ (X) 최저가격제(가)를 시행하면 소비자 잉여가 ㉠+㉡+㉢에서 ㉠으로 감소하고, 최고가격제(나)를 시행하면 생산자 잉여가 ㉢+㉣+㉤에서 ㉢으로 감소합니다.

19. 다음은 미국 달러화에 대한 각 국가 통화 가치의 변동을 나타낸다. 이에 대한 분석으로 옳은 것은?

| 구분              | 원화 | 엔화 |
|-----------------|----|----|
| 미국 달러화 대비 통화 가치 | 상승 | 하락 |

- ① 한국 기업의 달러 표시 외채 상환 부담이 증가한다.
- ② 일본 유학 중인 자녀에게 송금하는 한국 학부모의 학비 부담이 감소한다.
- ③ 한국으로 여행을 오는 미국 사람들의 여행 경비 부담이 감소한다.
- ④ 미국 시장에서 일본산 제품과 경쟁하는 한국산 제품의 가격 경쟁력이 강화된다.

[정답] ②

[출제단원] 경제 - IV. 세계시장과 교역

[출제영역] 환율 변동의 효과

| 출제 가능 지수 |  |  |  |  |  |
|----------|--|--|--|--|--|
| 난이도 지수   |  |  |  |  |  |

주어진 표에 따르면 각국 화폐 가치가 원화>달러화>엔화의 순으로 변동하고 있습니다.

- ① (X) 달러 대비 원화의 가치가 상승하고 있기 때문에 달러 표시 외채 상환 부담은 감소합니다.
- ② (O) 원화대비 엔화의 가치가 하락하고 있기 때문에 일본 유학 중인 자녀에게 송금하는 한국 학부모의 학비 부담은 감소합니다. 예를 들어 원/엔 환율이 1,000원에서 800원으로 하락하면 100엔을 송금하기 위해 한국 학부모가 입금해야하는 돈이 1,000원에서 800원으로 감소하는 것입니다.
- ③ (X) 원화의 가치가 상승하면 외국인 입장에서 한국의 여행상품 가격도 상승하게 됩니다. 원/달러 환율이 1,000원이다가 원화의 가치가 상승하여(=달러의 가치가 하락하여) 500원이 되면 미국인이 한국에 와서 1,000원짜리 한국 상품을 구입하기 위해 지불해야하는 달러가 1달러에서 2달러로 증가하게 되는 것입니다. 따라서 한국으로 여행을 오는 미국 사람들의 여행 경비 부담이 증가합니다.
- ④ (X) 원화가 달러화보다 강세를 보이고 있기 때문에 미국 소비자 입장에서 미국 시장에서 판매되는 한국 상품의 가격이 오르게 됩니다. 반면 엔화가 달러화보다 약세를 보이고 있기 때문에 미국 소비자 입장에서 미국 시장에서 판매되는 일본 상품의 가격이 하락하게 됩니다. 따라서 미국 시장에서 일본산 제품과 경쟁하는 한국산 제품의 가격 경쟁력이 하락하게 됩니다.

20. 다음은 각 연도의 물가 상승률과 명목 GDP 증가율을 나타낸다. 표에 대한 분석으로 옳은 것은? (단, 물가는 GDP 디플레이터로 측정되며, 실질 GDP 측정의 기준년도는 T - 1년이다)

| 구분                    | T년 | T + 1년 | T + 2년 |
|-----------------------|----|--------|--------|
| 물가 상승률(전년도 대비, %)     | 0  | 3      | 1      |
| 명목 GDP 증가율(전년도 대비, %) | 0  | 3      | -1     |

- ① T년의 GDP 디플레이터는 100보다 크다.
- ② T년에 비해 T + 1년의 실질 GDP는 증가하였다.
- ③ 실질 GDP는 T + 2년이 가장 크다.
- ④ GDP 디플레이터는 T + 2년이 가장 크다.

[정답] ④

[출제단원] 경제 - III. 국가와 경제 활동

[출제영역] 물가 상승률과 GDP 증가율

| 출제 가능 지수 |  |  |  |  |  |
|----------|--|--|--|--|--|
| 난이도 지수   |  |  |  |  |  |

- ① (X) 기준연도(T-1)의 물가지수(GDP 디플레이터)는 100입니다. 그런데 T년의 물가 상승률이 0%이기 때문에 T년의 물가지수는 T-1년과 마찬가지로 100입니다.
- ② (X) 「실질 GDP 증가율=명목 GDP 증가율-물가 상승률」입니다. 이 계산에 따르면 T+1년의 실질 GDP 증가율은 0%(3%-3%)입니다. 따라서 T년에 비해 T+1년의 실질 GDP는 변화가 없습니다.
- ③ (X) 「실질 GDP 증가율=명목 GDP 증가율-물가 상승률」의 공식에 따라 각 연도의 실질 GDP 증가율을 계산해보면 T년 0%, T+1년 0%, T+2년 -2%입니다. 따라서 실질 GDP는 T년과 T+1년에 변화가 없다가 T+2년에 -2%로 감소했기 때문에 T+2년의 실질 GDP가 가장 작습니다.
- ④ (O) GDP 디플레이터는 GDP로 측정한 물가지수입니다. 물가는 T년 0%, T+1년 3%, T+2년 1% 증가하였습니다. 물가 상승은 누적되기 때문에 T+2년이 GDP 디플레이터(물가지수)가 가장 큼니다.